

تم تحميل هذا الملف من موقع المناهج الإماراتية



\*للحصول على أوراق عمل لجميع الصفوف وجميع المواد اضغط هنا

<https://almanahj.com/ae>

\* للحصول على أوراق عمل لجميع مواد الصف الثامن اضغط هنا

<https://almanahj.com/ae/8>

\* للحصول على جميع أوراق الصف الثامن في مادة علوم وجميع الفصول, اضغط هنا

<https://almanahj.com/ae/8science>

\* للحصول على أوراق عمل لجميع مواد الصف الثامن في مادة علوم الخاصة بـ الفصل الأول اضغط هنا

<https://almanahj.com/ae/8science1>

\* لتحميل كتب جميع المواد في جميع الفصول للـ الصف الثامن اضغط هنا

<https://almanahj.com/ae/grade8>

للتحدث إلى بوت المناهج على تلغرام: اضغط هنا

[https://t.me/almanahj\\_bot](https://t.me/almanahj_bot)

المجالات الكهربائية

وقانون جاوس

12

United Arab Emirates  
Ministry of Education



الإمارات العربية المتحدة  
وزارة التربية والتعليم

الوحدة الثانية 2

I ♥  
PHYSICS

المجالات الكهربائية وقانون جاوس

الفيزياء

الثاني عشر - متقدم

الفصل الدراسي الأول

الاسم : .....

وزارة التربية والتعليم

دائرة التعليم والمعرفة

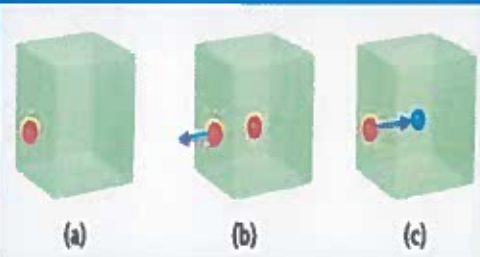
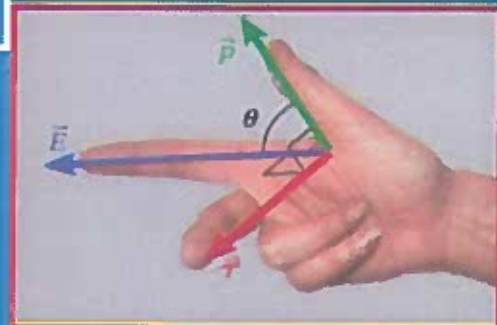
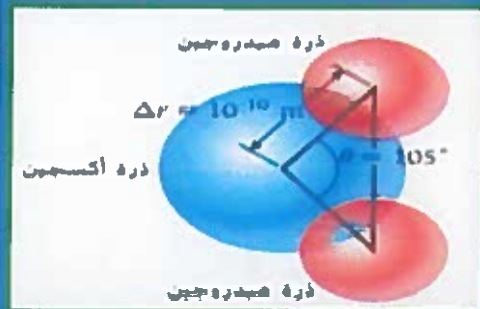
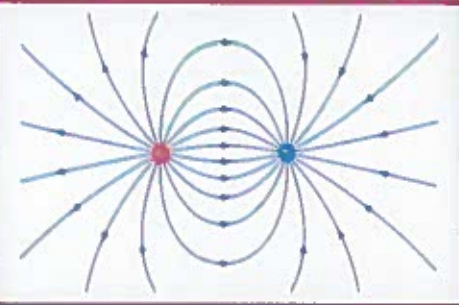
إعداد الأستاذ

أسامة إبراهيم النحوي

0554543232



العام الدراسي 2018-2019





## 2.1 تعريف المجال الكهربائي

$$\vec{E} = \frac{\vec{F}}{q}$$

محصلة القوة الكهربائية المؤثرة في شحنة مقسومة على مقدار هذه الشحنة

$$F = |q| E$$

$$E(r) = \frac{F(r)}{q}$$

وهي كمية متجهة لها مقدار واتجاه و وحدة (E) : (N/C)

اتجاه شدة المجال عند نقطة :



• إذا كانت (q) موجبة يكون اتجاه (E) من النقطة بعيداً عن الشحنة .



• إذا كانت (q) سالبة يكون اتجاه (E) من النقطة باتجاه الشحنة .

• ملاحظة : الشحنة لا تؤثر على نفسها بمجال وانما تؤثر على المنطقة المحيطة بها .

في حال وجود مصادر متعددة للمجالات الكهربائية في الوقت نفسه نستخدم مبدأ التراكب

$$\vec{E}_1(\vec{r}) = \vec{E}_1(\vec{r}) + \vec{E}_2(\vec{r}) + \dots + \vec{E}_n(\vec{r})$$

## 2.2 خطوط المجال الكهربائي

(1) تبدأ الخطوط من الشحنة الموجبة وتنتهي عند الشحنة السالبة . (إذا لم يكن هناك شحنة سالبة تنتهي في الملائمة)

(2) عدد خطوط المجال التي تجتاز عمودياً وحدة المساحة تمثل شدة المجال عند تلك النقطة .

الخطوط تتكاثف عندما تكون (E) كبيرة وتتباعدها عندما تكون (E) صغيرة .

(3) اتجاه (E) عند أي نقطة يكون مماساً لخط المجال المار بتلك النقطة .

(4) عدد الخطوط الخارجة من الشحنة الموجبة أو الواصلة إلى السالبة يتناسب مع مقدار الشحنة .

(5) لا تتقاطع . علل ؟ لأنه لو تقاطع خطان لكان لشدة المجال في نقطة التقاطع أكثر من اتجاه

شحنة اختبار .

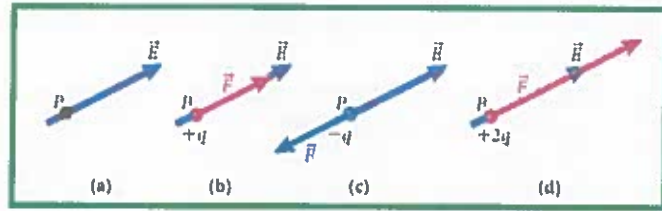
لكي نرسم خطاً للمجال الكهربائي، نتخيل وضع شحنة موجبة صغيرة عند كل نقطة في المجال

الكهربائي. وتكون هذه الشحنة صغيرة بما يكفي بحيث لا تؤثر في المجال.



القوة الناتجة عن وضع شحنة في مجال كهربائي.

- إذا كانت ( $q$ ) سالبة تكون ( $\vec{F}$ ) عكس اتجاه ( $\vec{E}$ )  
- إذا كانت ( $q$ ) موجبة تكون ( $\vec{F}$ ) بنفس اتجاه ( $\vec{E}$ )



\* (a) النقطة P على خط مجال كهربائي

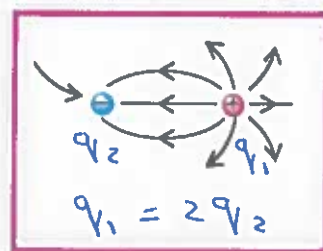
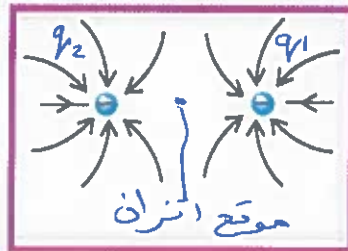
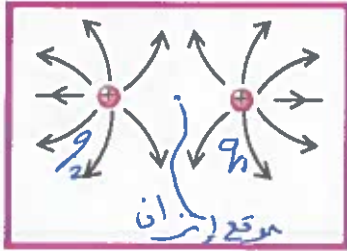
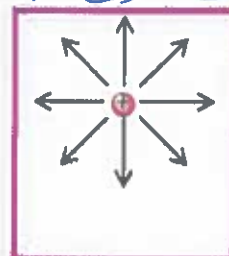
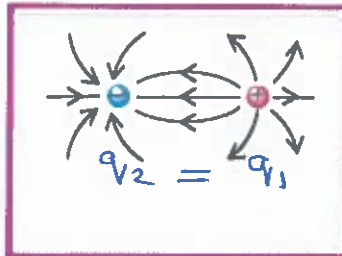
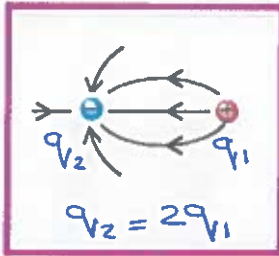
\* (b) شحنة موجبة +q موضوعة عند النقطة P

\* (c) شحنة سالبة -q موضوعة عند النقطة P

\* (d) شحنة موجبة +2q موضوعة عند النقطة P

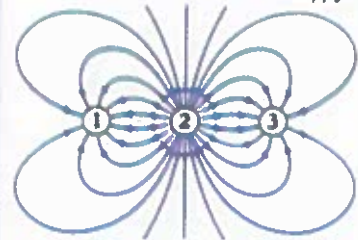
### الشحنة النقطية

الخطوط تخرج من الموجبة تدخل للسالبة



### مراجعة المفاهيم 2.1



أي من الشحنات الموضحة في الشكل موجبة؟



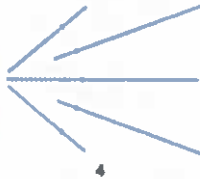
- (a) رقم 1  
(b) رقم 2  
(c) رقم 3  
(d) رقم 1 و 3  
(e) كل الشحنات الثلاث موجبة.

### مراجعة المفاهيم 2.2

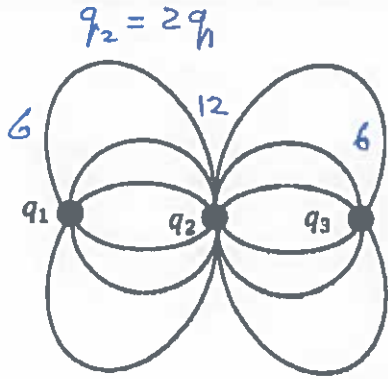
إذا افترضنا أنه لا توجد شحنات في المناطق الأربع الموضحة في الشكل، فأي نمط يمكن أن يمثل مجالاً كهربائياً؟



سائل منتظم



(a) النمط 1 فقط  
(b) النمط 2 فقط  
(c) النمطان 2 و 3  
(d) النمطان 1 و 4  
(e) لا يمثل أي نمط مجالاً كهربائياً



1 يظهر الرسم التخطيطي المجاور خطوط المجال الكهربائي لثلاث

شحنات كهربائية نقطية. اعتماداً على الرسم أجب كما يلي:

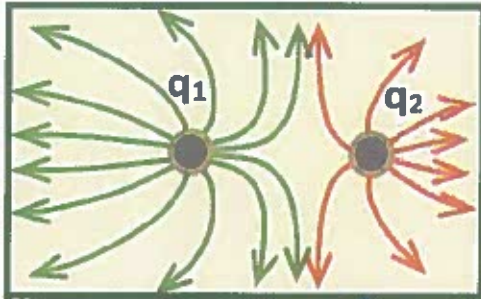
1- احسب النسبة  $\frac{|q_1|}{|q_3|}$

عدد خطوط  $\frac{q_1}{q_3} = \frac{6}{8} = 1$

$q_1 = q_3$

2- إذا كانت الشحنة ( $q_1$ ) سالبة، فما نوع كل من الشحنتين ( $q_2$ ) و ( $q_3$ )؟

الشحنة ( $q_2$ ): موجبه الشحنة ( $q_3$ ): سالبة



2 يبين الشكل المجاور خطوط المجال الكهربائي لشحنتين نقطيتين

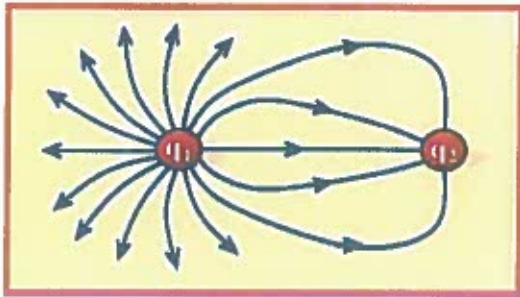
(  $q_2$  ) و ( $|q_1| = 18.0 \times 10^{-12} C$  ) .

1- ما نوع كل من الشحنتين ؟

موجبه لان خطوط تخرج منها  $\frac{q_1}{q_2}$

2- ما مقدار الشحنة ( $q_2$ ) ؟

مقدار الشحنة عدد خطوط  $\frac{q_1}{q_2} = \frac{12}{8} = \frac{18 \times 10^{-12}}{q_2} \Rightarrow q_2 = 1.2 \times 10^{-11} C$



3 يظهر الشكل المجاور خطوط المجال الكهربائي حول

شحنتين نقطيتين متجاورتين .

اعتماداً على الشكل :

• ما نوع الشحنة ( $q_2$ ) ؟ سالبة

• أي الشحنتين كميتها أكبر ؟  $q_1$

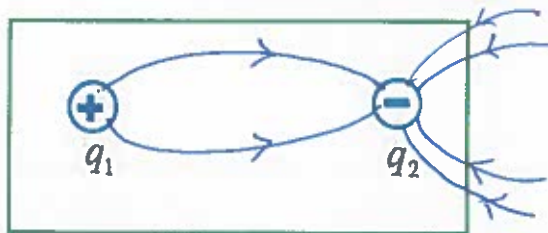
4 وضعت الشحنتان النقطيتان ( $q_2 = -4.2 \times 10^{-6} C$  ,  $q_1 = 1.4 \times 10^{-6} C$ ) متجاورتين في الهواء كما في الشكل

المجاور ، ارسم خطوط المجال الكهربائي على الشكل نفسه .

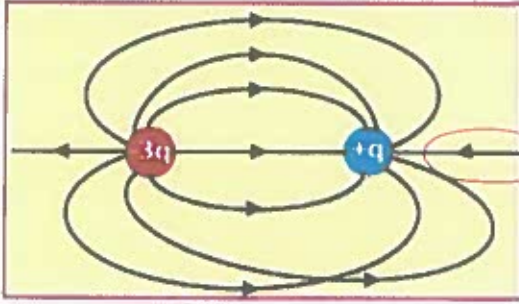
جد النسبة

$\left| \frac{q_1}{q_2} \right| = \frac{1.4 \times 10^{-6}}{4.2 \times 10^{-6}}$

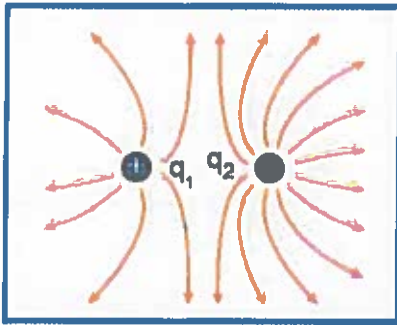
$\frac{q_1}{q_2} = \frac{1}{3}$



كل خط من  $q_1$  يتجاوبه 3 من  $q_2$



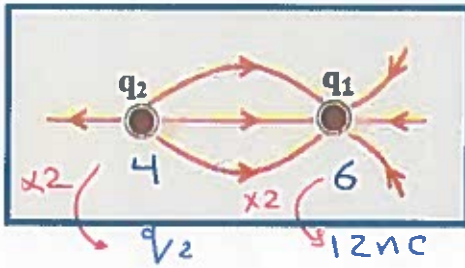
5 رسم متعمم خطوط المجال الكهربائي لشحنتين متجاورتين كما في الشكل المجاور . أكتب الأخطاء الثلاثة التي ارتكبتها المتعمم في الرسم .  
• يوجد خطان متقاطعان .  
• خطوط المجال تخرج من الشحنة السالبة إلى الموجبة .  
• عدد الخطوط لا يتناسب مع كمية الشحنتين .



6 شكل التخطيطي المجاور يظهر خطوط المجال الكهربائي لشحنتين

$q_1$  و  $q_2$  ، فإذا كان  $[q_1 = 3 \times 10^{-6} C]$

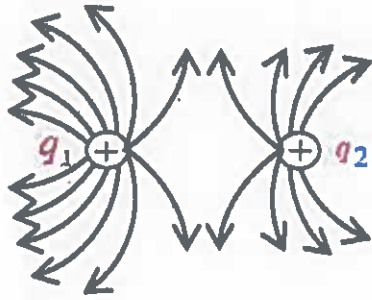
حدد نوع الشحنة  $q_2$  ثم احسب كميتها .  
$$\frac{q_1}{q_2} = \frac{7}{12} = \frac{3 \times 10^{-6}}{q_2}$$
  
موجبة  
$$q_2 = 5.14 \times 10^{-6} C$$



7 اعتماداً على الشكل التخطيطي المجاور أكمل الجدول التالي بما يناسب :

| $q_2$ | $q_1$ |              |
|-------|-------|--------------|
| موجبة | سالبة | نوع الشحنة   |
| 8 nC  | 12 nC | مقدار الشحنة |

اختر الإجابة الصحيحة فيما يلي :



(1) اعتماداً على الشكل المجاور تكون النسبة بين كميتي الشحنتين  $(\frac{q_1}{q_2})$  تساوي :

$$\frac{q_1}{q_2} = \frac{12}{8} = \frac{3}{2}$$

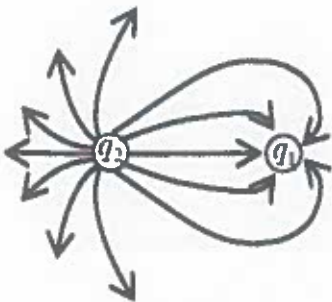
(ب)  $\frac{1}{2}$   
(د)  $\frac{2}{3}$

(أ)  $\frac{2}{1}$   
(ج)  $\frac{3}{2}$

(2) يظهر الشكل المجاور خطوط المجال الكهربائي لشحنتين نقطيتين متجاورتين ،

إذا كان مقدار الشحنة  $(q_1)$  يساوي  $(6 \mu C)$  فما مقدار الشحنة  $(q_2)$  :

(أ)  $2.5 \mu C$  (ب)  $4.8 \mu C$  (ج)  $4.3 \mu C$  (د)  $14.4 \mu C$



$$\frac{q_1}{q_2} = \frac{5}{12} = \frac{6 \mu C}{q_2}$$

$$\rightarrow q_2 = 14.4 \mu C$$




### 2.3 المجال الكهربائي الناتج عن الشحنات النقطية

شدة المجال الكهربائي ( $E$ ): هي القوة الكهربائية المؤثرة في شحنة اختبار صغيرة مقسومة على كمية شحنة الاختبار

$$F = \frac{1}{4\pi\epsilon_0} \frac{|qq_0|}{r^2} \Rightarrow E = \frac{F}{q_0} = \frac{1}{4\pi\epsilon_0} \frac{|q|}{r^2} \Rightarrow E = k \frac{q}{r^2}$$

2.25 وُضعت شحنة نقطية،  $q = 4.00 \times 10^{-9} \text{ C}$ ، على المحور  $x$  عند نقطة الأصل. ما المجال الكهربائي الناتج عند  $x = 25.0 \text{ cm}$



$$E = \frac{kq}{r^2} = \frac{9 \times 10^9 \times 4 \times 10^{-9}}{(0.25)^2} = 576 \text{ N/C}$$

معتمداً على البيانات في الشكل:

(1) احسب شدة المجال الكهربائي المؤثر في الشحنة ( $q_3$ ) وحدد اتجاهه؟

(2) احسب مقدار القوة الكهربائية المؤثرة على الشحنة ( $q_3$ ) وحدد اتجاهها على الرسم.

$$q_2 = -2.7 \text{ nC}$$

1- ملاحظة في أسئلة هذه المجال يجب وضع شحنة اختبار موجبة عند النقطة المطلوبة (اعمال أسئلة الموجودة في النقطة)

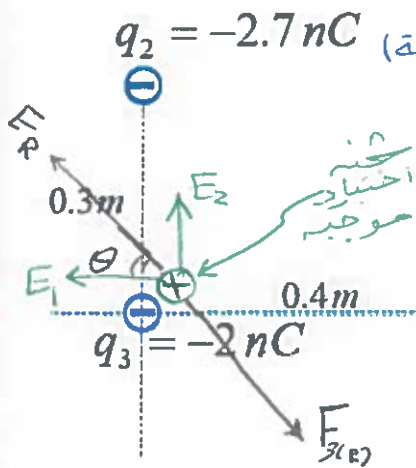
$$E_1 = \frac{kq_1}{r^2} = \frac{9 \times 10^9 \times 6.4 \times 10^{-9}}{(0.4)^2} = 360 \text{ N/C} \text{ (+x)}$$

$$E_2 = \frac{9 \times 10^9 \times 2.7 \times 10^{-9}}{(0.3)^2} = 270 \text{ N/C} \text{ (+y)}$$

$$q_1 = 6.4 \text{ nC}$$

$$E_R = \sqrt{E_1^2 + E_2^2} = \sqrt{(360)^2 + (270)^2} = 450 \text{ N/C}$$

$$\theta = \tan^{-1}\left(\frac{E_2}{E_1}\right) \approx 37^\circ$$



$$F_{3(R)} = q_3 E_{3(R)} \quad \text{-2}$$

$$= 2 \times 10^{-9} \times 450$$

$$= 9 \times 10^{-7} \text{ N}$$

الشحنة  $q$  سالبة فستكون  $E$  عكس  $F$  كما في الرسم



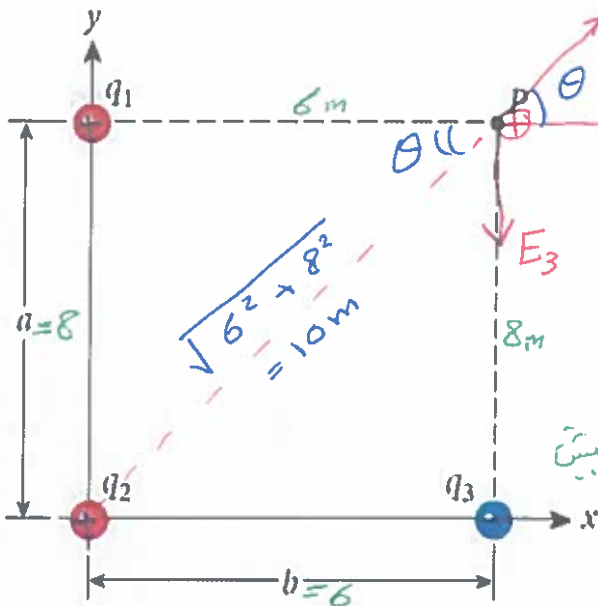
## مثال 2.1

### ثلاث شحنات

يوضح الشكل 2.9 ثلاث شحنات نقطية ثابتة،  $q_1 = +1.50 \mu\text{C}$ ، والشحنة  $q_2$  عند النقطة  $(0, a)$ ، والشحنة  $q_3$  عند النقطة  $(b, 0)$ . حيث  $b = 6.00 \text{ m}$ ،  $a = 8.00 \text{ m}$ .

### المسألة

ما المجال الكهربائي  $\vec{E}$  الذي تنتجه هذه الشحنات الثلاث عند النقطة  $P = (b, a)$ ؟



$$\theta = \cos^{-1}\left(\frac{6}{10}\right)$$

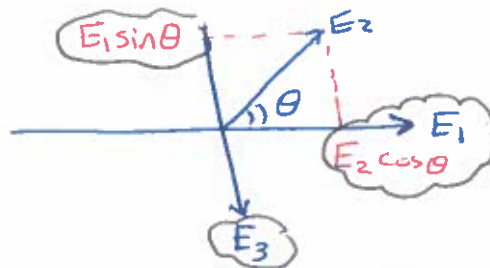
$$\theta = 53.1^\circ$$

$$E_1 = \frac{9 \times 10^9 \times 1.5 \times 10^{-6}}{(6)^2} = 375 \text{ N/C } (\hat{x})$$

$$E_2 = \frac{9 \times 10^9 \times 2.5 \times 10^{-6}}{(10)^2} = 225 \text{ N/C } \nearrow$$

$$E_3 = \frac{9 \times 10^9 \times 3.5 \times 10^{-6}}{(8)^2} = 492 \text{ N/C } (\hat{y})$$

لإيجاد المحصلة نحلل  $E_2$  إلى مركبتين



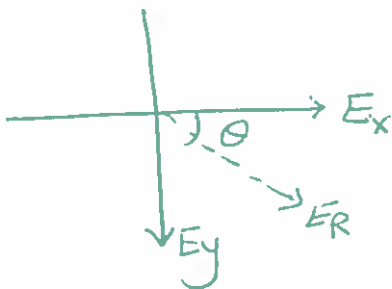
$$\vec{E}_x = E_1 + E_2 \cos \theta$$

$$= 375 + (225 \cos 53.1) \approx 510 \text{ N/C}$$

$$E_y = E_1 \sin \theta - E_3$$

$$= (375 \sin 53.1) - 492$$

$$= -192 \text{ N/C}$$



مقدار }  $E_R = \sqrt{(510)^2 + (-192)^2} = 545 \text{ N/C}$

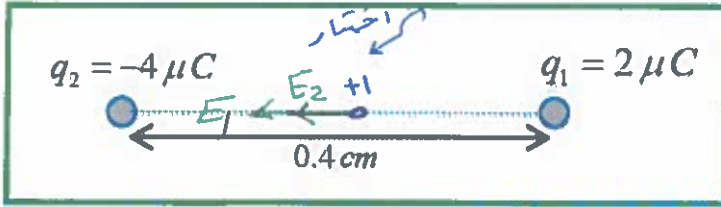
اتجاه المحصلة }  $\theta = \tan^{-1}\left(\frac{-192}{510}\right)$

$$= 20.6^\circ$$



وضعت شحنتان نقطيتان في الهواء كما في الشكل المجاور :  
(1) احسب شدة المجال عند منتصف المسافة بين الشحنتين .

(2) احسب القوة الكهربائية التي تؤثر في بروتون يوضع في منتصف المسافة بين الشحنتين ( $q_p = 1.6 \times 10^{-19} C$ ) .



$$E_1 = \frac{9 \times 10^9 \times 2 \times 10^{-6}}{(0.2 \times 10^{-2})^2} = 4.5 \times 10^9 \text{ N/C}$$

$$E_2 = \frac{9 \times 10^9 \times 4 \times 10^{-6}}{(0.2 \times 10^{-2})^2} = 9 \times 10^9 \text{ N/C}$$

نفس اتجاه المجال (-x)  $E_R = E_1 + E_2$   
 $= 4.5 \times 10^9 + 9 \times 10^9 = 1.35 \times 10^{10} \text{ N/C}$

اتجاه وقوه نفس اتجاه المجال (-x) له إشارة موجبة (بروتون)  $F = q_p E$   
 $= 1.6 \times 10^{-19} \times 1.35 \times 10^{10}$   
 $= 2.16 \times 10^{-9} \text{ N}$

وضعت الشحنتان النقطيتان ( $q_1$ ) و ( $q_2$ )

في الهواء على محاور الاحداثيات كما في الشكل المجاور .

إذا كانت الشحنة الأولى [ $q_1 = +16.0 \times 10^{-6} C$ ]

الشحنة الثانية [ $q_2 = -32.0 \times 10^{-6} C$ ]

1- جد شدة المجال الكهربائي عند نقطة

الأصل (0,0)

$$E_1 = \frac{9 \times 10^9 \times 16 \times 10^{-6}}{(0.3)^2} = 1.6 \times 10^6 \text{ N/C} \quad (y)$$

$$E_2 = \frac{9 \times 10^9 \times 32 \times 10^{-6}}{(0.4)^2} = 1.8 \times 10^6 \text{ N/C} \quad (x)$$

$$E_R = \sqrt{(1.6 \times 10^6)^2 + (1.8 \times 10^6)^2} = 2.4 \times 10^6 \text{ N/C}$$

معلمة  $\theta = \tan^{-1}\left(\frac{E_1}{E_2}\right) = 41.6^\circ$

2- إذا ازمنت الشحنة ( $q_2$ ) فهل يزداد مقدار المجال الكهربائي عند نقطة الأصل أم يقل أم لا يتغير؟ برر اجابتك

يقل لأنه معلمة المجال كانت ( $2.4 \times 10^6$ ) وعند إزالة الشحنة  $q_2$

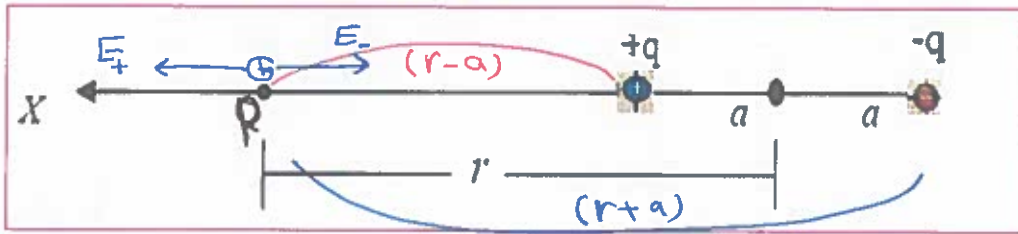
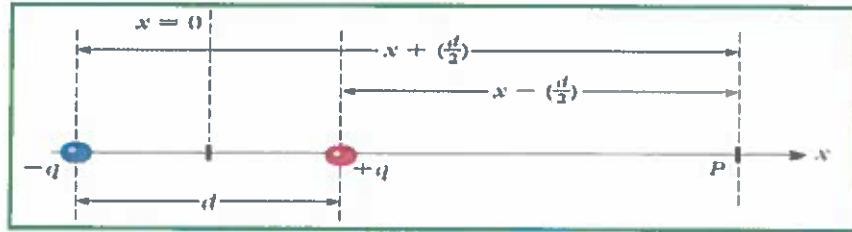
سيبقى  $E_1$  فقط وهو أقل من  $E_R$  .

2.4 المجال الكهربائي الناتج عن ثنائي قطب

ثنائي القطب الكهربائي :

نظام مكون من جسيمين نقطيين مشحولين بشحنتين (متساويتين في المقدار) و (مختلفتين في الإشارة).

نفرض  
 $a = \frac{1}{2}d$   
للتسهيل



$$E_+ = \frac{kq}{(r-a)^2}$$

$$E_- = \frac{kq}{(r+a)^2}$$

المجال عند نقطة بالهنا  
من الشحنة الموجبة لبعدها  
عن النقطة P

$$E_R = E_+ - E_- \quad (\text{بما كان نظر})$$

$$= \frac{kq}{(r-a)^2} - \frac{kq}{(r+a)^2}$$

عامل مشترك

$$= kq \left[ \frac{1}{(r-a)^2} - \frac{1}{(r+a)^2} \right]$$

توحيد المقامات

$$= kq \left[ \frac{(r+a)^2 - (r-a)^2}{(r-a)^2 \cdot (r+a)^2} \right]$$

$$= kq \left[ \frac{r^2 + 2ar + a^2 - (r^2 - 2ar + a^2)}{(r^2 - a^2)^2} \right]$$

$$= kq \frac{4ar}{(r^2 - a^2)^2}$$

when  $r \gg a$

$$= \frac{kq \cdot 4ar}{r^4}$$

اعاين ترتيب

$$E_R = \frac{4kqa}{r^3}$$

نستبدل  $a = \frac{1}{2}d$

$$= \frac{4kq(\frac{1}{2}d)}{r^3} = \frac{2kqd}{r^3}$$

أو بوضع  $k = \frac{1}{4\pi\epsilon_0}$

$$E_R = \frac{qd}{2\pi\epsilon_0 r^3}$$

$$E = \frac{2kqd}{x^3}$$

أو

$$E \approx \frac{qd}{2\pi\epsilon_0 x^3}$$

المجال الكهربائي الناتج عن ثنائي القطب الكهربائي :

بعد النقطة عن منتصف ثنائي القطب (X أو r)

عزم ثنائي القطب الكهربائي :  $\vec{p}$

يكون اتجاه عزم ثنائي القطب الكهربائي من الشحنة السالبة إلى الشحنة الموجبة وهو عكس اتجاه خطوط المجال الكهربائي

$$p = qd$$

الصفة النهائية للمجال الكهربائي الناتج عن ثنائي القطب :

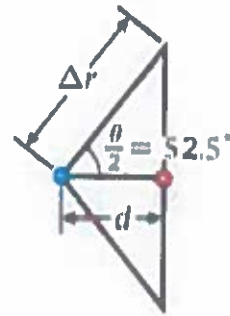
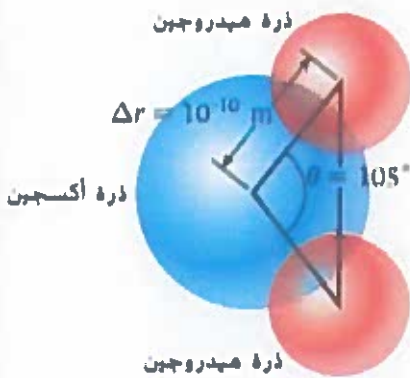
$$E = \frac{p}{2\pi\epsilon_0 |x|^3}$$

حيث (q) مقدار احدى الشحنتين

و (d) المسافة الفاصلة بينهما

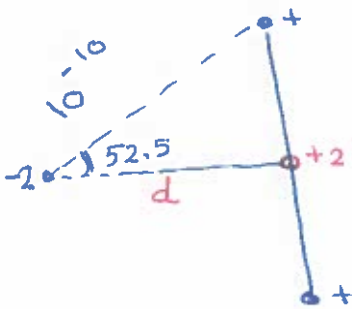
### جزء الماء

ما عزم ثنائي القطب الكهربائي الناتج للماء



$$p = qd$$

$$= (2 \times 1.6 \times 10^{-19}) \times 6.1 \times 10^{-11} \text{ m.C}$$

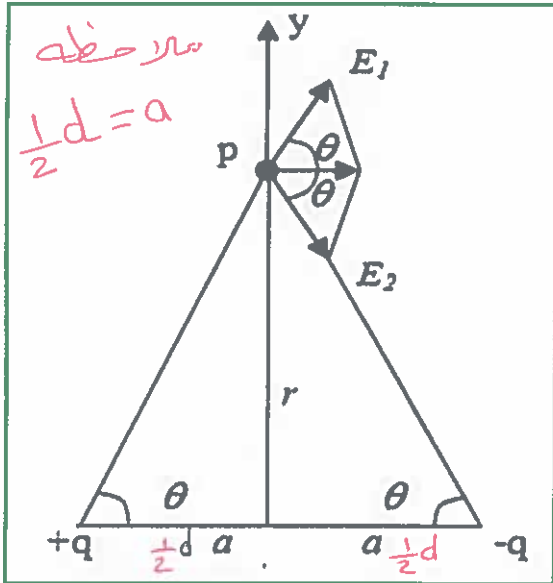


$$d = 10^{-10} \cos 52.5$$

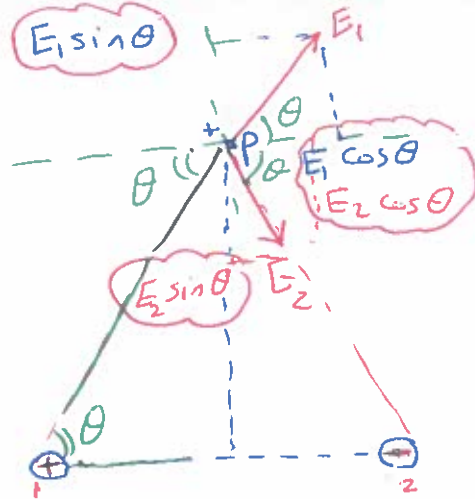
$$d = 6.1 \times 10^{-11} \text{ m}$$



بالنسبة لثنائي القطب الموضح بالشكل. أوجد شدة المجال الكهربائي الناشئ عن الشحنتين  $+q$  أو  $-q$  عند النقطة  $p$  الواقعة على العمود المنتصف لمحور ثنائي القطب



و  $q$  عند النقطة  $p$  الواقعة على العمود المنتصف لمحور ثنائي القطب



$$E_1 = \frac{kq}{(r^2)^2} \quad (E_2 = \frac{kq}{(r^2)^2})$$

$$E_1 = E_2 = E$$

$$* E_y = E_1 \sin \theta - E_2 \sin \theta = 0$$

$$E_x = E_1 \cos \theta + E_2 \cos \theta$$

$$= 2E \cos \theta$$

$$= 2 \times \frac{kq}{(a^2 + r^2)} \cdot \frac{a}{(a^2 + r^2)^{1/2}} = \frac{2kqa}{(a^2 + r^2)^{3/2}}$$

عندما  $r \gg a$

$$E = \frac{2kqa}{r^3} = \frac{kqd}{r^3} \text{ أو } \frac{kqd}{x^3}$$

مثال : ثنائي قطب متعادل شحنتاه  $+6.0 \mu C$ ,  $-6.0 \mu C$  والمسافة بينهما  $2 \text{ cm}$  فإن مقدار المجال الكهربائي على بعد  $30 \text{ cm}$  من منتصف ثنائي القطب هي :

$$E = \frac{2kqd}{x^3}$$

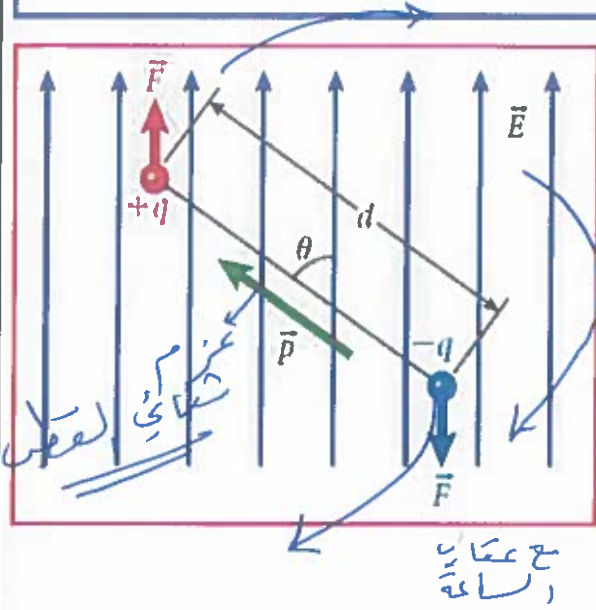
$$= \frac{2 \times 9 \times 10^9 \times 6 \times 10^{-6} \times 2 \times 10^{-2}}{(30 \times 10^{-2})^3}$$

A)  $5.6 \times 10^4 \text{ N/C}$

(B)  $8.0 \times 10^4 \text{ N/C}$

(C)  $12.5 \times 10^4 \text{ N/C}$

(D)  $15.0 \times 10^4 \text{ N/C}$



### ثنائي القطب في مجال كهربائي

تتأثر الشحنة النقطية في مجال كهربائي بقوة (  $F = qE$  )

وتكون هذه القوة مماسية لخطوط المجال

#### ملاحظات:

1. نحن هنا ندرس القوى المؤثرة في ثنائي القطب موجود

في **مجال خارجي** لا المجال الناتج عن ثنائي القطب.

2. مجال ثنائي القطب **صغير جداً** مقارنة مع المجال

الخارجي (  $E$  ) لذلك يمكننا تجاهل تأثيره.

3. يبذل المجال الكهربائي قوة متجهة الى **الأعلى** على الشحنة **الموجبة** والى **الأسفل** على الشحنة السالبة.

مقدارها (  $F = qE$  ) وهما متساويتان لذلك ينتج عنها عزم دوران

$$\tau = qEd \sin \theta \quad \text{ومنها} \quad \vec{\tau} = \vec{r} \times \vec{F} \rightarrow qE$$

وحدة القياس N.m

بتذكر أن عزم ثنائي القطب الكهربائي يحدد بالمعادلة  $p = qd$ .

$$\tau = pE \sin \theta.$$

ولأن عزم الدوران عبارة عن متجه ويجب أن يكون **متعامداً** على كل من عزم ثنائي القطب

الكهربائي والمجال الكهربائي يمكن كتابة المعادلة بالشكل التالي

$$\vec{\tau} = \vec{p} \times \vec{E}.$$

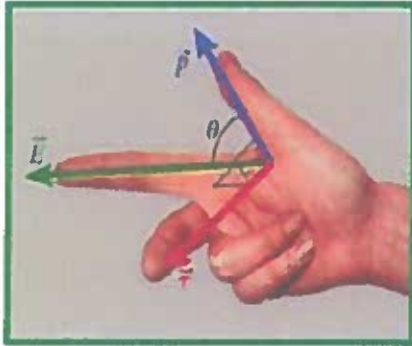
نلاحظ من المعادلة السابقة إن مقدار العزم يعتمد على  $\sin \theta$

❖ ويكون أكبر ما يمكن - قيمة عظمى - أي (  $\tau = \pm pE$  ) عندما تكون الزاوية (90) أو (270)

❖ بينما يكون العزم صفرًا عندما تكون الزاوية (0) أو (180)



يمكن الحصول على اتجاه عزم الدوران باستخدام قاعدة اليد اليمنى



\* الإبهام (p) . عزم ثنائي القطب

\* السبابة (E) . الإصابع المجال

\* العمودي على باطن اليد (الإصبع الوسطى) (T) .

له عزم دوران

2.41 ثنائي قطب كهربائي له شحنتان مختلفتان في الإشارة مقدار كل منهما  $5.00 \times 10^{-15} \text{ C}$  وتفصل بينها مسافة  $0.400 \text{ mm}$  موجه بزاوية  $60.0$  بالنسبة لمجال كهربائي منتظم مقداره  $2.00 \times 10^3 \text{ N/C}$  أوجد مقدار عزم الدوران الذي يبذله المجال الكهربائي على ثنائي القطب .

$$T = pE \sin \theta = qdE \sin \theta = 5 \times 10^{-15} \times 0.4 \times 10^{-3} \times 2 \times 10^3 \sin 60$$

$$= 3.46 \times 10^{-15} \text{ N.m}$$

وضع ثنائي قطب كهربائي في مجال كهربائي منتظم كما في الشكل ،  
تمعن الشكل جيداً ثم أجب عن الآتي :

1- في أي اتجاه سيتحرك ثنائي القطب ؟ **فسر اجابتك** .  
القوة المحصلة ستكون صفر لذلك لن يكون هناك حركة انتقالية  $F_{\text{net}} = 0$   
 $F_+ = E$  (المجال منتظم)

2- في أي اتجاه سيدور ثنائي القطب ؟ **فسر اجابتك** .

عزم الدوران لن يكون صفر (  $T \neq 0$  ) سيدور عكس عقارب الساعة  
لأن (+) سيدور نحو اليمين و (-) نحو اليسار . والثنائي عكس عقارب الساعة  
اختر أفضل تعريف لثنائي القطب .

(a) زوج من الشحنات المتساوية والمتشابهة التي تقع في نقطة الأصل

(b) زوج من الشحنات غير المتساوية والمتشابهة تقع في الأصل

(c) زوج من الشحنات المتساوية مقداراً ومختلفة نوعاً ومفصولة بمسافة صغيرة

(d) زوج من الشحنات غير المتساوية مقداراً ومختلفة نوعاً ومفصولة بمسافة صغيرة



تحدث عندها  
 $\sin 90 = 1$

2.42 غالباً ما يقاس عزم ثنائي القطب الكهربائي للجزيئات بوحدة الديباي (D). حيث  $D = 3.34 \cdot 10^{-30} \text{ C m}$  1. على سبيل المثال. عزم ثنائي القطب لغاز كلوريد الهيدروجين هو  $1.05 D$ . احسب أقصى عزم دوران يمكن أن يُبدل على هذا الجزيء في وجود مجال كهربائي مقداره  $160.0 \text{ N/C}$ .

$$\tau = PE \sin \theta$$

$$= (1.05 \times 3.34 \times 10^{-30}) (160) \sin 90$$

$$= 5.61 \times 10^{-28} \text{ N.m}$$

2.44 تبعد شحنتان  $+e$  و  $-e$  عن بعضهما مسافة  $0.680 \text{ nm}$  في مجال كهربائي.  $E$  مقداره  $4.40 \text{ kN/C}$  وموجه بزواوية  $45.0^\circ$  بالنسبة إلى محور ثنائي القطب. احسب عزم ثنائي القطب ومن ثم عزم الدوران المبدول على ثنائي القطب في المجال الكهربائي.


$$P = qd = 1.6 \times 10^{-19} \times 0.68 \times 10^{-9} = 1.09 \times 10^{-28} \text{ Cm}$$

$$\tau = PE \sin \theta = 1.09 \times 10^{-28} \times 4.4 \times 10^3 \times \sin 45$$

$$= 3.4 \times 10^{-25} \text{ N.m}$$

### مراجعة المفاهيم 2.3

وضع ثنائي قطب متعاقل كهربائياً في مجال كهربائي خارجي كما هو موضح في الشكل. في أي حالة (احالات) تكون محصلة القوى المؤثرة في ثنائي القطب صفراً؟



$\theta = 180$   
بين  $P-E$

$\theta = 180$   
بين  $E-P$

### مراجعة المفاهيم 2.4

وضع ثنائي قطب متعاقل كهربائياً في مجال كهربائي خارجي كما هو موضح في الشكل في مراجعة المفاهيم 2.3. في أي حالة (احالات) تكون محصلة عزم الدوران المبدولة على ثنائي القطب صفراً؟

- (a) الحالتان 1 و 3
- (b) الحالتان 2 و 4
- (c) الحالتان 1 و 4
- (d) الحالتان 2 و 3
- (e) الحالة 1 فقط

$$\tau = PE \sin \theta$$

تحدث عندها  
تكون  $\theta = 180$

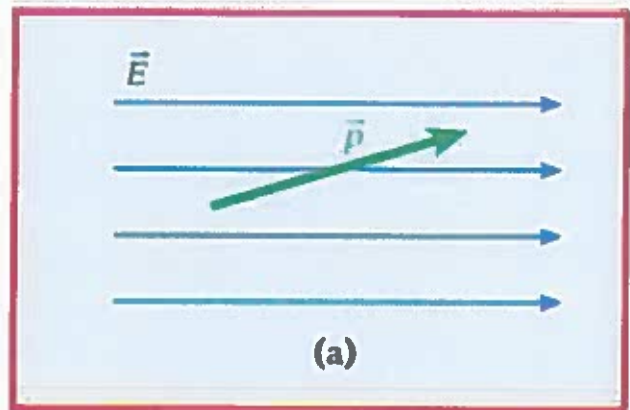
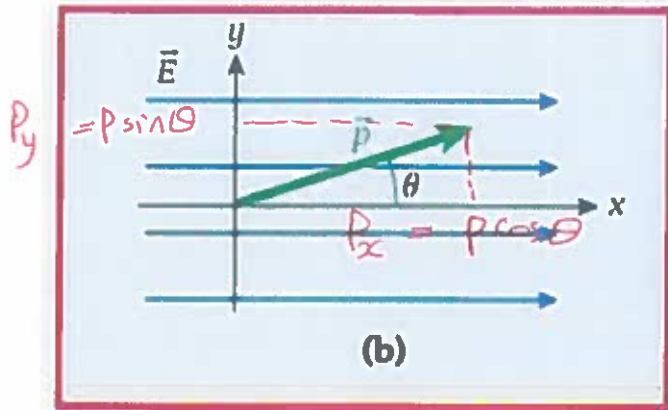
بين

بين  $P-E$   
من عزم ثنائي القطب  
في اتجاه المجال



## المسألة

'وضع ثنائي قطب كهربائي مقدار عزم ثنائي القطب له  $p = 1.40 \cdot 10^{-12} \text{ C m}$  في مجال كهربائي منتظم مقداره  $E = 498 \text{ N/C}$  (الشكل 2.21a).



ثنائي قطب كهربائي في مجال كهربائي منتظم.

المجال الكهربائي في اتجاه  $x$ ، وعزم ثنائي

القطب في المستوى  $xy$ .

عند لحظة زمنية معينة، كانت الزاوية بين عزم ثنائي القطب الكهربائي والمجال الكهربائي هي  $\theta = 14.5^\circ$ .  
ما المركبات الديكارترية لعزم الدوران في ثنائي القطب؟

$$\vec{\tau} = \vec{p} \times \vec{E}$$

$$\vec{p} = (p_x \hat{x} + p_y \hat{y} + 0 \hat{z})$$

$$\vec{E} = (E_x \hat{x} + 0 \hat{y} + 0 \hat{z})$$

$$\vec{\tau} = (p_y E_z - p_z E_y) \hat{x} + (p_z E_x - p_x E_z) \hat{y} + (p_x E_y - p_y E_x) \hat{z}$$

$$\begin{vmatrix} \hat{x} & \hat{y} & \hat{z} \\ p_x & p_y & 0 \\ E_x & 0 & 0 \end{vmatrix}$$

$$\vec{\tau} = -p_y E_x \hat{z}$$

$$= -p \sin \theta E \hat{z}$$

$$= p \sin \theta E \quad (\text{بإجاه } -\hat{z})$$

$$= (1.40 \times 10^{-12}) \sin(14.5) \times 498$$

$$= 1.75 \times 10^{-10} \text{ N}\cdot\text{m}$$



عزم ثنائي الأقطاب لشحنتين  $q_1 = -2\mu\text{C}$  و  $q_2 = +2\mu\text{C}$  و مفصولة بمسافة  $2\text{mm}$  يساوي؟  
 $\times 10^3$   $\times 10^6$

$$P = qd$$

$$= 2 \times 10^{-6} \times 2 \times 10^{-3}$$

$$= 4 \times 10^{-9} \text{ C m}$$

- (a)  $2 \times 10^{-9} \text{ mc}$   
(b)  $4 \times 10^{-9} \text{ mc}$   
(c)  $6 \times 10^{-9} \text{ mc}$   
(d)  $8 \times 10^{-9} \text{ mc}$

يكون اتجاه عزم الثنائي قطبي

- (a) من الشحنة الموجبة الى الشحنة السالبة  
(b) من الشحنة السالبة الى الشحنة الموجبة  
(c) مبتعدا عن الشحنة الموجبة  
(d) عمودي على الخط الواصل بين الشحنتين

### 2.5 التوزيعات العامة للشحنة

عندما تكون الشحنة الكهربائية موزعة بانتظام كأن تكون مرتبة في بُعد واحد على طول سلك او في بُعدين على سطح جسم فلزي فإنه يستحيل حساب المجال الناشئ عن هذه الاعداد الهائلة من الشحنات النقطية بالطريقة التقليدية (مبدأ التراكب) ولذا نلجأ الى طريقة التكامل لحل المسائل التي تتضمن مثل هذه التوزيعات للشحنة بعد ان نُقسم الشحنة الى عناصر متناهية في الصغر تسمى العناصر التفاضلية ويزمزم لها بالرمز  $dq$  وهذا لابد من الانتباه لما يلي:

1- عندما تكون الشحنة موزعة على خط (بُعد واحد) يكون  $dq = \lambda dx$  حيث  $\lambda$  (المبدأ) وتمثل الشحنة لكل وحدة طول اي الكثافة الطولية او الخطية للشحنة.

2- عندما تكون الشحنة موزعة على مساحة (بُعدين) يكون  $dq = \sigma dA$  حيث  $\sigma$  (سجما) وتمثل الشحنة لكل وحدة مساحة اي الكثافة السطحية للشحنة.

3- عندما تكون الشحنة موزعة على حجم (ثلاثة ابعاد) يكون  $dq = \rho dV$  حيث  $\rho$  (رو) وتمثل الشحنة لكل وحدة حجم. اي الكثافة الحجمية للشحنة.

4- نعتبر مقدار المجال الناتج عن الشحنة التفاضلية  $dE = k \frac{dq}{r^2}$  كثافته حوالية  $\lambda = \frac{q}{L}$

$$\sigma = \frac{q}{A} \text{ كثافته سطحية (مأحة)}$$

الخلاصة:

$$\left. \begin{array}{l} dq = \lambda dx \\ dq = \sigma dA \\ dq = \rho dV \end{array} \right\} \begin{array}{l} \text{على امتداد خط} \\ \text{على السطح} \\ \text{على الحجم} \end{array} \quad \rho = \frac{q}{V} \text{ كثافة حجمية}$$



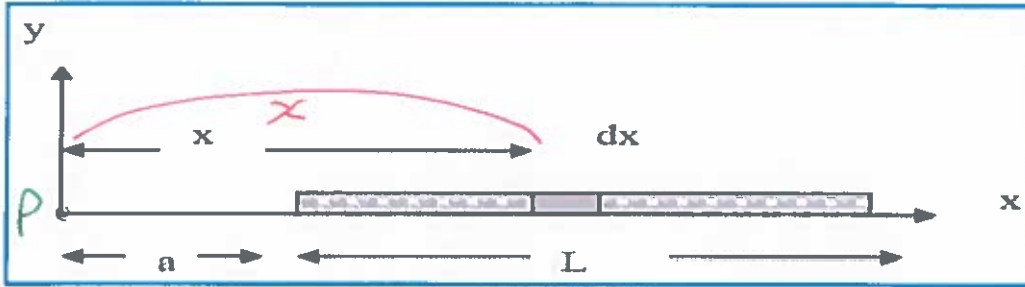
تطبيقات عن كيفية حساب شدة المجال الكهربائي باستخدام شحنة اختبار

إيجاد شدة المجال الكهربائي عند النقطة p الواقعة على مسافة a من إحدى نهايتي السلك.

$$\lambda = \frac{q}{L}$$

$$q = \lambda L$$

$$dq = \lambda dx$$



$$dE = \frac{1}{4\pi\epsilon_0} \frac{dq}{x^2} = \frac{k dq}{x^2}$$

\* يجري التكامل من  
بداية السلك (a)  
لنهاية السلك (L+a)

$$E_p = \int_a^{L+a} \frac{k dq}{x^2}$$

ك ثابت

$$= k \int_a^{L+a} \frac{dq}{x^2}$$

ببساطة  
dq = lambda dx

$$= k \lambda \int_a^{L+a} x^{-2} dx$$

$$\int x^{-2} dx = \frac{x^{-2+1}}{-2+1}$$

$$= -\frac{1}{x}$$

$$= k \lambda \left[ \frac{-1}{L+a} - \frac{-1}{a} \right]$$

$$= k \lambda \left[ \frac{1}{a} - \frac{1}{L+a} \right]$$

توحيد مقامات

$$= k \lambda \left[ \frac{L+a-a}{a(L+a)} \right]$$

$$= \frac{k \lambda L}{a(L+a)}$$

نضع  $\lambda = \frac{q}{L}$

$$\frac{k \frac{q}{L} L}{a(L+a)}$$

$$= \frac{k q}{a(L+a)}$$

$$E = \frac{1}{4\pi\epsilon_0} \lambda \frac{L}{a(L+a)} = \frac{1}{4\pi\epsilon_0} \frac{q}{a(L+a)}$$

حيث L طول السلك  
a بعد أحد أطراف السلك  
من النقطة p

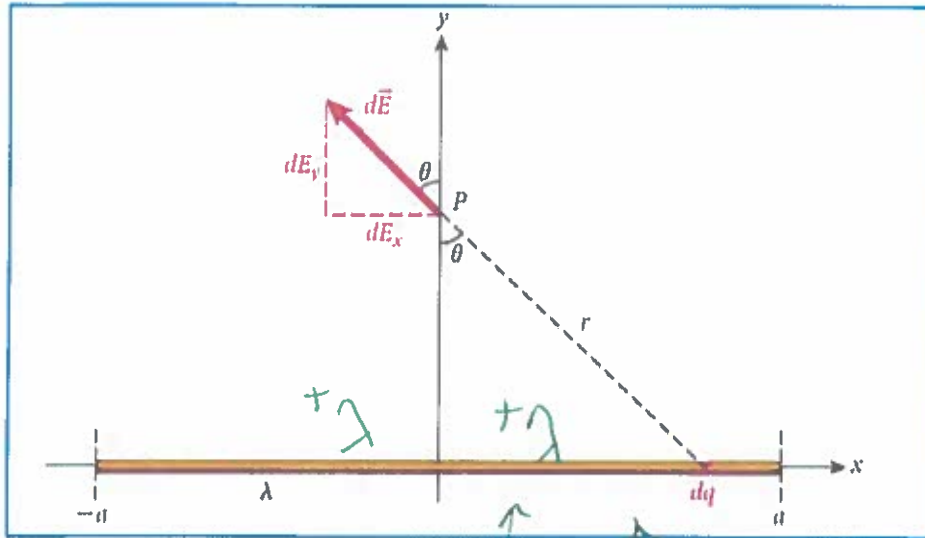


شحنات على سلك مستقيم

أوجد المجال الكهربائي عند النقطة ( P ) الواقعة على امتداد الخط الذي ينصف السلك

باستخدام جدول التكاملات في نهاية الكتاب صفحة A-7

$$\int \frac{1}{(a^2 + x^2)^{3/2}} dx = \frac{x}{a^2 \sqrt{a^2 + x^2}} + c \quad (A.73)$$

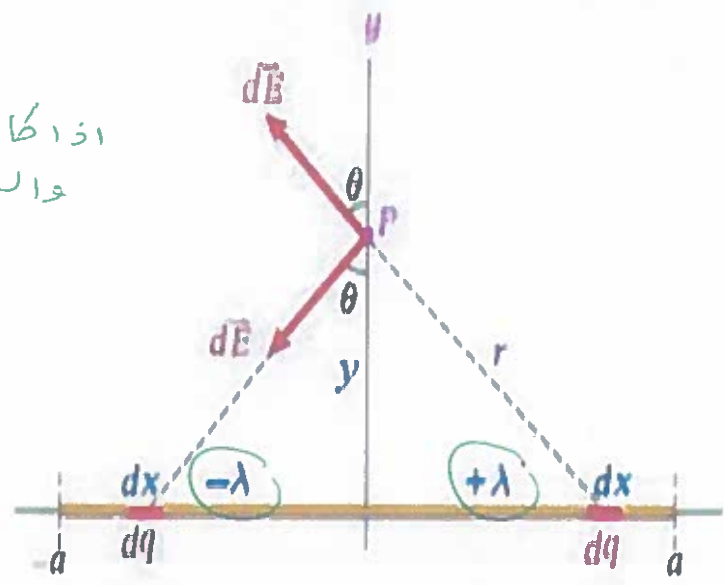


إذا كان السلك لا له أي أطول  
( $a \rightarrow \infty$ )  
 $E_p = \frac{2K\lambda}{y}$

$E_p = \frac{2K\lambda}{y} \frac{a}{\sqrt{y^2 + a^2}}$   
حيث (a) نصف طول السلك

إذا كان نصف السلك  $\lambda$   
والنصف الآخر  $-\lambda$

$$E_p = 2K\lambda \left( \frac{1}{\sqrt{y^2 + a^2}} - \frac{1}{y} \right)$$



حيث: نصف طول السلك a  
كثافته طوليه  $\lambda = \frac{q}{L}$   
بعد مركزه عن المنتصف y

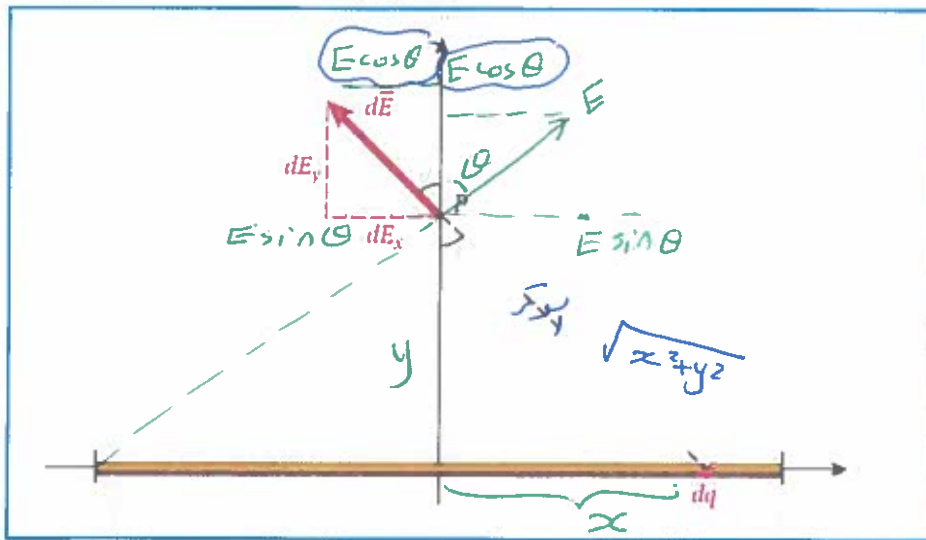


شحنات على سلك مستقيم

(P)

A-7

$\lambda = \frac{q}{L}$   
 $q = \lambda L$   
 $dq = \lambda dx$



محور x  
 $E \sin \theta - E \sin$   
 $= \text{zero}$   
 المجال فقط  
 يظل عمودي  
 على محور y

$E = 2 E \cos \theta$   
 $= 2 \frac{kq}{(x^2 + y^2)} \cdot \frac{y}{\sqrt{x^2 + y^2}}$

$\cos \theta = \frac{y}{\sqrt{x^2 + y^2}}$

$E = 2k\lambda \int_0^a \frac{y dx}{(x^2 + y^2)^{3/2}}$

$E = \frac{kq}{r^2} = \frac{kq}{x^2 + y^2}$

$= 2k\lambda y \int_0^a \frac{dx}{(x^2 + y^2)^{3/2}}$  من جدول التكاملات

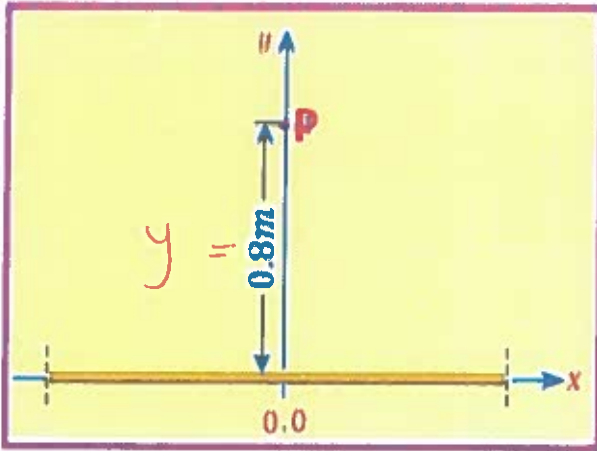
$= 2k\lambda y \left[ \frac{x}{y^2 \sqrt{y^2 + x^2}} \right]_0^a$

$E = \frac{2k\lambda}{y} \cdot \frac{a}{\sqrt{a^2 + y^2}}$

$\frac{kq}{r^2}$   
 a: نصف طول السلك  
 y: بعد النقطة عمودياً  
 عن منتصف السلك  
 1: الكثافة طولية

عندما يكون السلك لا نهائي في الطول

$E = \frac{2k\lambda}{y}$



الشكل المجاور يبين سلك مستقيم طوله (1.2m) ويحمل شحنة موجبة بكثافة طولية مقدارها (4.0 μC/m) ، مستعينا بالقاعدة الرياضية التالية :

$$\int \frac{1}{(a^2 + x^2)^{3/2}} dx = \frac{1}{a^2} \frac{x}{\sqrt{a^2 + x^2}} + c$$

أجب عما يلي :

1- احسب المجال الكهربائي الناتج عن شحنة السلك في النقطة P

جند a  
 $a = \frac{1}{2}L$   
 $= \frac{1}{2} \times 1.2$   
 $= 0.6m$

$$E = \frac{2k\lambda}{y} \cdot \frac{a}{\sqrt{y^2 + a^2}}$$

$$E = \frac{2 \times 9 \times 10^9 \times 4 \times 10^{-6}}{0.8} \cdot \frac{0.6}{\sqrt{0.8^2 + 0.6^2}}$$

$$= 54000$$

$$= 5.4 \times 10^4 \text{ N/C}$$

2- اعد الحسابات على افتراض ان السلك لا نهائي الطول .

$$E = \frac{2k\lambda}{y}$$

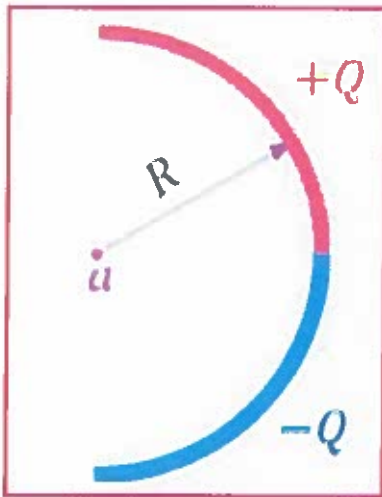
$$= \frac{2 \times 9 \times 10^9 \times 4 \times 10^{-6}}{0.8}$$

$$= 9 \times 10^4 \text{ N/C}$$



## شحنات على حلقة

2.35- ثني قضيب زجاجي رفيع على شكل نصف دائرة نصف قطرها ( $R$ ) ووُزعت شحنة  $(+Q)$  بشكل منتظم على النصف العلوي لها كما وُزعت شحنة  $(-Q)$  بشكل منتظم لاحظ الشكل ، أوجد علاقة لحساب المجال الكهربائي عند النقطة ( $a$ ) التي تمثل مركز نصف الحلقة .



ربع حلقة

$$E_c = \frac{2kq}{\pi R^2}$$

$$E_p = \frac{kqb}{(R^2 + b^2)^{3/2}}$$

حالات خاصة :

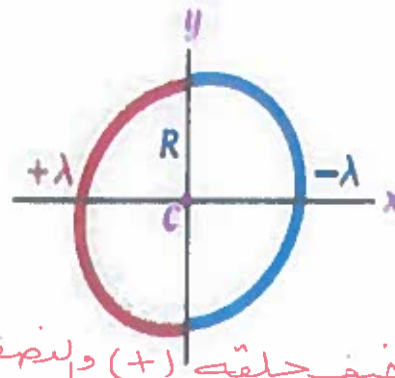
1- إذا كان ( $b \gg R$ )

$$E_p = \frac{kq}{b^2}$$

2- إذا كان ( $b = 0.0$ )

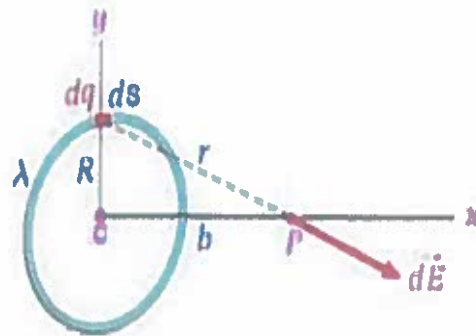
أي في المركز

$$E_c = 0.0$$



نصف حلقة (+) ونصف الآخر (-)

$$E_c = \frac{4kq}{\pi R^2}$$



$b$  : بعد شحنة عن المركز (النقطة)

$R$  نصف القطر



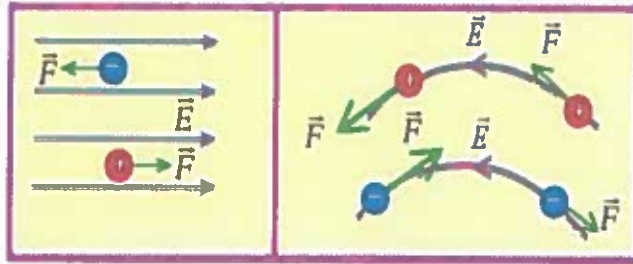
\* القوة الناتجة عن مجال كهربائي .

عندما نوضع شحنة (q) داخل مجال كهربائي منتظم او غير منتظم فانها تتأثر بقوة كهربائية تعطى بالعلاقة التالية :

$$\vec{F} = q\vec{E}$$

ويكون متجه القوة مماساً لمتجه المجال ( لخطوط المجال ) وفي الاتجاه نفسه اذا كانت الشحنة موجبة وبالعكس اتجاه المجال اذا كانت الشحنة سالبة لاحظ الاشكال التالية :

شحنات الموجبة تتحرك  
مع اتجاه المجال  
بقوة  $F = qE$



\* ملاحظات هامة جداً :

1- اذا ترك أي جسيم مشحون حراً داخل مجال كهربائي فإنه سيبدا الحركة باتجاه القوة الكهربائية وبمعجلة ثابتة تعطى حسب قانون نيوتن الثاني بالعلاقة التالية :

$$\vec{F}_{net} = ma = q\vec{E}$$

$$\vec{a} = \frac{\vec{F}}{m} = \frac{q\vec{E}}{m}$$

2- يتم وصف الحركة بمعجلة ثابتة من خلال العلاقات التالية:

$$\begin{aligned} v_f &= v_i + a\Delta t && \text{سرعة نهائية} \\ v_f^2 &= v_i^2 + 2a\Delta x && \text{مافيه (المزاحة)} \\ \Delta x &= v_i\Delta t + \frac{1}{2}a\Delta t^2 \end{aligned}$$



$$KE = \frac{1}{2}mv^2$$

3- تحسب الطاقة الحركية للجسيم المتحرك بالعلاقة التالية :

4- نقياس الطاقة في النظام الدولي بوحدة الجول (J) وهناك وحدات أخرى لقياسها مثل الإلكترون فولت (eV) وهنا يجب معرفة عامل التحويل بين هاتين الوحدتين حيث يكون  $1eV = 1.602 \times 10^{-19} J$

× ضرب

المجال الكهربائي الناتج عن سطح مستو موصل لا نهائي منتظم توزيع الشحنة

$$E = \frac{\sigma}{\epsilon_0}$$

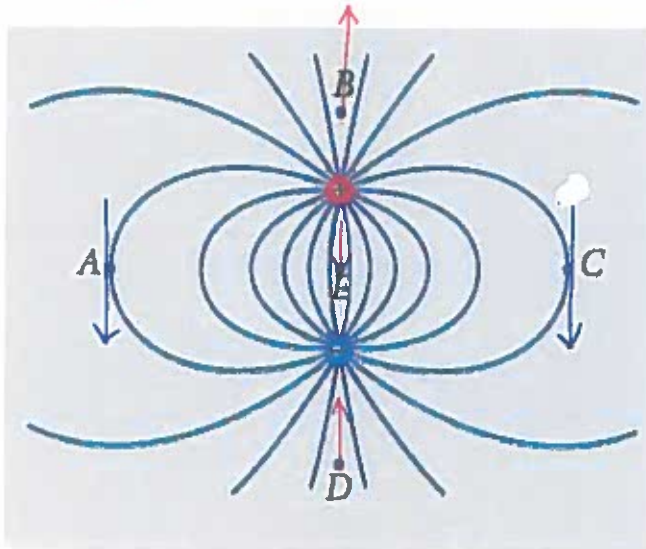
المجال الكهربائي الناتج عن سطح مستو غير موصل لا نهائي منتظم توزيع الشحنة

$$E = \frac{\sigma}{2\epsilon_0}$$



يوضح الشكل منظرًا ثنائي الأبعاد لخطوط المجال الكهربائي الناتج عن شحنتين مختلفتين بالإشارة . ما اتجاه المجال عند النقاط الخمس A و B و C و D و E وعند أي من النقاط يكون مقدار المجال أكبر ما يمكن

بسبب تراكم خطوط المجال  $E$



### مراجعة المفاهيم 2.5

وضع جسم صغير موجب الشحنة في وضع السكون في مجال كهربائي منتظم كما هو موضح في الشكل. عندما يتحرر الجسم، فإنه



(a) لن يتحرك.

(b) سيبدأ في الحركة بسرعة ثابتة.

(c) سيبدأ في الحركة بعجلة ثابتة.

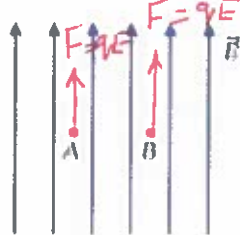
(d) سيبدأ في الحركة بعجلة متزايدة.

(e) سيتحرك إلى الخلف وإلى الأمام بحركة توافقية بسيطة.

### مراجعة المفاهيم 2.6

يمكن وضع جسم صغير موجب الشحنة في مجال كهربائي منتظم عند الموقع A أو الموقع B في الشكل. ما وجه المقارنة بين العزوتين الكهربائيتين اللتان تؤثران في الجسم عند الموقعين؟

نفس الشحنة ونفس قيمة المجال المنتظم



(a) مقدار القوة الكهربائية المؤثرة في الجسم تكون أكبر عند الموقع A.

(b) مقدار القوة الكهربائية المؤثرة في الجسم تكون أكبر عند الموقع B.

(c) لا توجد قوة كهربائية مؤثرة في الجسم عند أي من الموقعين A أو B.

(d) تتساوى القوة الكهربائية المؤثرة في الجسم عند الموقع A مع القوة المؤثرة في الجسم عند الموقع B في المقدار وتعاكسها في الاتجاه.

(e) القوة الكهربائية المؤثرة في الجسم عند الموقع A هي القوة الكهربائية غير الصغرية نفسها المؤثرة في الجسم عند الموقع B.



يبين الشكل صفيحتين متوازيتين مشحونتين بشحنتين متساويتين في المقدار ومختلفتين في النوع. وضعت شحنة نقطية مقدارها  $2 \mu C$  عند النقطة (أ) في الحيز بين اللوحين فتأثرت بقوة كهربائية مقدارها  $6 \cdot 10^{-4}$  نيوتن في اتجاه خطوط المجال:

1- ما نوع الشحنة النقطية؟ 2- احسب مقدار المجال الكهربائي عند النقطة (أ).

3- إذا نقلت الشحنة إلى النقطة (ب) ما مقدار القوة المؤثرة فيها؟

① موجبه لانها تحركت (F) بنفس اتجاه المجال (E)

$$E = \frac{F}{q} = \frac{6 \times 10^{-4}}{2 \times 10^{-6}} = 300 \text{ N/C} \quad \text{②}$$

$$\text{③ نفس القوة } (F = qE) = 6 \times 10^{-4} \text{ N}$$





### حجرة الاسقاط الزمني:



حجرة تستخدم في اجهزة التصادم للكشف عن مسارات الاجسام دون الذرية وتحتوي على غازي ارغون بنسبة 90% وغاز الميثان بنسبة 10% اثناء مرور الجسيمات المشحونة عبر الغاز توين ذرات الغاز وتنتج الكترونات حرة

يعطي مصادم star TPC تمثيلا ثلاثي الابعاد لمسار كل جسيم مشحون تمثل الالوان مقدار التأين الناتج عن كل مسار

نلاحظ الكترون يتحرك بسرعة مقدارها  $(27.5 \text{ Mm/s})$  وبموازاة مجال كهربائي مقداره  $(11.400 \text{ kN/C}) \times 10^3$  احسب المسافة التي سيقطعها الإلكترون قبل ان يتوقف  $v_f = 0$

من معادلات الحركة

$$v_f^2 = v_i^2 + 2a\Delta x$$

$$0 = (27.5 \times 10^6)^2 + 2(2 \times 10^{15}) \Delta x$$

$$\Delta x = -0.18 \text{ m}$$

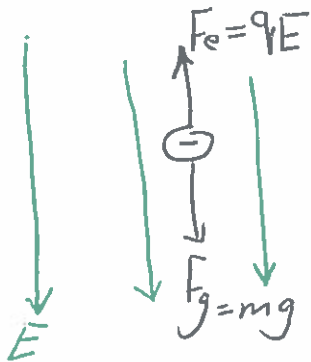
الالكترون يتحرك معاكس لاجتاه المجال

نسب  $a$

$$F = ma = qE$$

$$a = \frac{qE}{m} = \frac{1.6 \times 10^{-19} \times 11.4 \times 10^3}{9.11 \times 10^{-31}} = 2 \times 10^{15} \text{ m/s}^2$$

مجال كهربائي مقداره  $(150 \text{ N/C})$  يتجه راسياً الى أسفل بالقرب من سطح الأرض ، احسب العجلة التي حاز بها الكترون ترك حراً داخل هذا المجال



$$F_{\text{net}} = ma$$

$$F_e - F_g = ma$$

$$qE - mg = ma$$

$$a = \frac{qE - mg}{m}$$

$$= \frac{(1.6 \times 10^{-19} \times 150) - (9.11 \times 10^{-31} \times 9.81)}{9.11 \times 10^{-31}}$$

$$= 2.6 \times 10^{13} \text{ m/s}^2$$

الالكترون سيتحرك عكس المجال لذلك  $F_e > F_g$



محول إلى  $1.6 \times 10^{-19}$  بـ ضرب  $10^3$  و لتخلص من  $k$

حركة إلكترون فوق لوح مشحون

أطلق إلكترون طاقته الحركية (2.00 keV) فوق لوح  $v_i = 0$

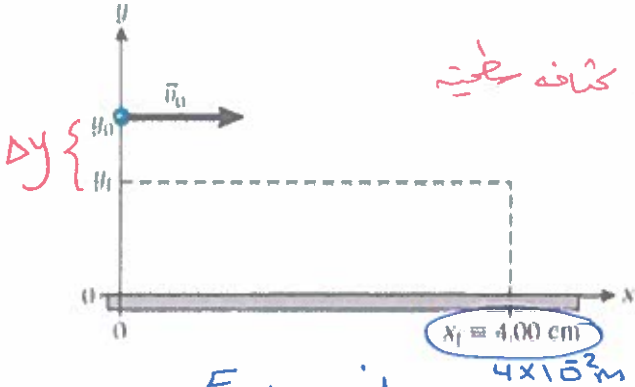
موصل مشحون وفي وضع أفقي، وتبلغ كثافة شحنة

سطح اللوح  $+4 \times 10^{-6} \text{ C/m}^2$ . إذا كان مسار

الإلكترون في الاتجاه الموجب أعلى اللوح (على مسافة من

سطحه)، فما الانحراف الرأسى للإلكترون بعد أن يقطع

مسافة أفقية مقدارها  $4.00 \text{ cm}$  ؟  $\Delta y$



نسب  $E$

$$E = \frac{\sigma}{2\epsilon_0} = \frac{4 \times 10^{-6}}{8.85 \times 10^{-12}}$$

$$E = 4.5 \times 10^5 \text{ N/C}$$

نسب  $a$

$$a = \frac{qE}{m} = \frac{1.6 \times 10^{-19} \times 4.5 \times 10^5}{9.11 \times 10^{-31}}$$

$$a = 7.9 \times 10^{16} \text{ m/s}^2$$

حساب السرعة أثناء تواجد الإلكترون فوق اللوح

$$KE = \frac{1}{2} m v^2$$

$$2 \times 10^3 \times 1.6 \times 10^{-19} = 0.5 \times 9.11 \times 10^{-31} v^2$$

$$v = 2.66 \times 10^7 \text{ m/s}$$

$$t = \frac{\text{المسافة}}{\text{السرعة}}$$

$$= \frac{4 \times 10^{-2}}{2.66 \times 10^7}$$

$$t = 1.5 \times 10^{-9} \text{ (s)}$$

$$\Delta x = v_i t + \frac{1}{2} a t^2$$

$$\Delta y = \frac{1}{2} a t^2$$

$$= \frac{1}{2} (7.9 \times 10^{16}) (1.5 \times 10^{-9})^2$$

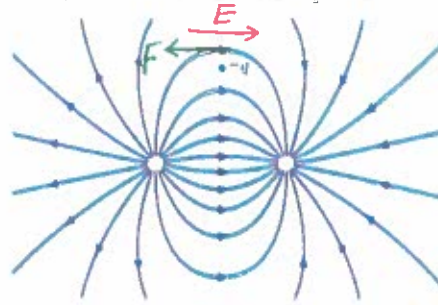
$$\Delta y = -0.089 \text{ m}$$

تدل على اتجاه الإزاحة الرأسى للأسفل

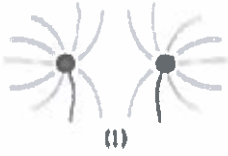


وضعت شحنة سالبة  $-q$  في مجال كهربائي غير منتظم كما هو موضح الشكل. فما اتجاه القوة الكهربائية المؤثرة في هذه الشحنة السالبة

- a)
- b)
- c)
- d)
- e) The force is zero.



اي الرسوم البيانية يمثل أفضل تمثيل لخطوط المجال الكهربائي حول ثنائي القطب كهربائي؟



1 (a)

2 (b)

3 (c)

4 (d)

(e) لا يوجد رسم صحيح

ثنائي القطب كهربائي عزمه  $\vec{p} = 250 \text{ pc.m}$  ويعمل زاوية مقدارها  $65^\circ$  درجة مع مجال كهربائي منتظم مقداره  $3.0 \times 10^{-6} \text{ N/C}$  ما هو مقدار عزم الدوران على ثنائي القطب؟

$$\begin{aligned} \tau &= pE \sin \theta \\ &= 250 \times 10^{-12} \times 3 \times 10^{-6} \sin 65 \\ &= 6.8 \times 10^{-16} \text{ N.m} \end{aligned}$$

$3.2 \times 10^{-16} \text{ N.m}$  (a)

$6.2 \times 10^{-16} \text{ N.m}$  (b)

$1.4 \times 10^{-15} \text{ N.m}$  (c)

$6.8 \times 10^{-16} \text{ N.m}$  (d)

$7.5 \times 10^{-16} \text{ N.m}$  (e)

2.40 تقترح الأبحاث أن شدة المجالات الكهربائية في بعض سحب العواصف الرعدية يمكن أن تكون حوالي  $10.03 \text{ kN/C}$  احسب مقدار القوة الكهربائية المؤثرة في جسيم

يحتوي على إلكترونين فائضين في وجود مجال شدته  $E = 10.0 \text{ kN/C}$

مقترح لا يستعمل في اكل

$$\begin{aligned} F &= qE \\ &= (2 \times 1.6 \times 10^{-19}) \times 10 \times 10^3 \\ &= 3.2 \times 10^{-15} \text{ N} \end{aligned}$$

## 2.7 التدفق الكهربائي $(\Phi)$ $\Phi = EA \cos \theta$ فاي

هو عدد خطوط المجال الكهربائي التي تقطع وحدة المساحة بشكل عمودي عليه .

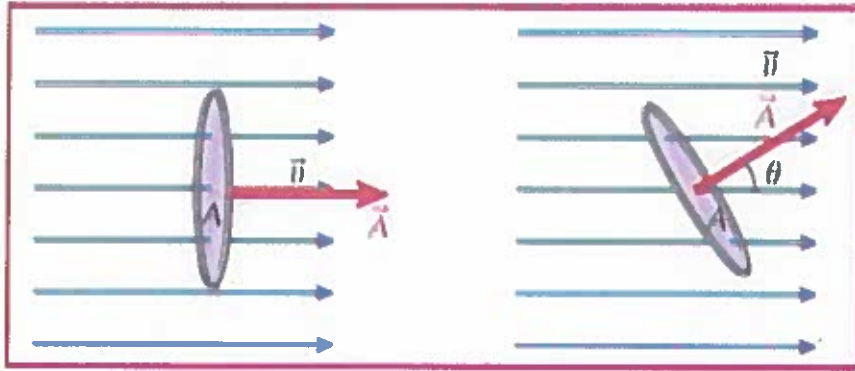
ويعبر عنه رياضياً بالقانون التالي

$\theta$  : الزاوية بين

$$\vec{A} \text{ وموجه } (E) \text{ المجال } \Phi = \vec{E} \cdot \vec{A} \Rightarrow \Phi = EA \cos \theta$$

نقاس التدفق الكهربائي  $\Phi$  بوحدة  $(N \cdot m^2 / C)$  بين  $E$  والعمودي على السطح

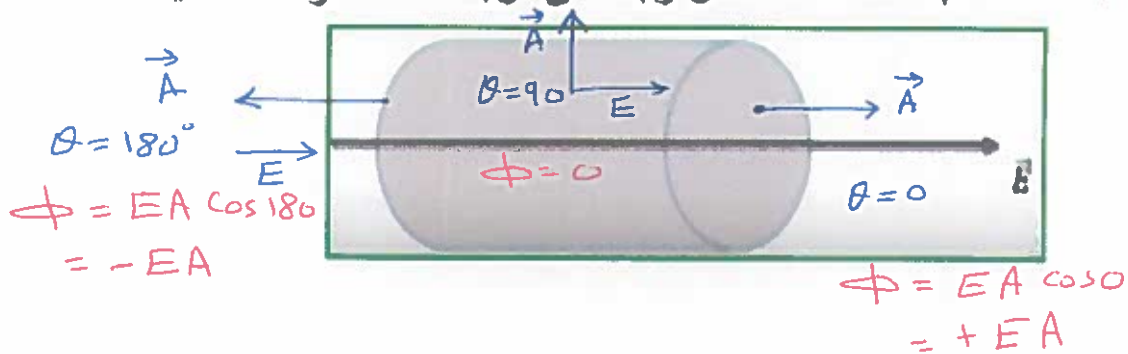
بلغة مبسطة، يتناسب التدفق الكهربائي طردياً مع عدد خطوط المجال الكهربائي



متجه المساحة  $\vec{A}$ : متجه مقداره يساوي مساحة السطح  $A$  واتجاهه عمودي على سطح المساحة ونحو الخارج .

$\theta$ : هي الزاوية المحصورة بين اتجاه المجال الكهربائي  $E$  واتجاه متجه المساحة  $\vec{A}$  العمودي على السطح

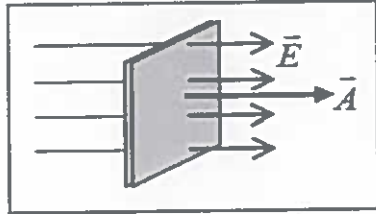
تدريب : حدد متجه المساحة لكل وجه من اوجه الاسطوانة التالية



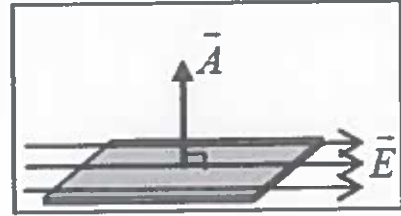
$$\Phi_{\text{كلي}} = 0 + EA - EA = 0$$

ملاحظات مهمة جداً

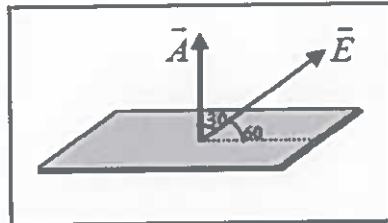
- يكون التدفق موجباً إذا كانت خطوط المجال خارجة من السطح .
- يكون التدفق سالباً إذا كانت خطوط المجال داخلة إلى السطح .



• إذا كان المجال عمودي على السطح  $\theta = 0.0$  فإن  $\Phi = EA$



• إذا كان المجال يوازي السطح  $\theta = 90$  فإن  $\Phi = 0$



• إذا كان المجال يشكل زاوية مع السطح  $\theta = 60$   
فإن  $\Phi = EA = EA \cos 30$

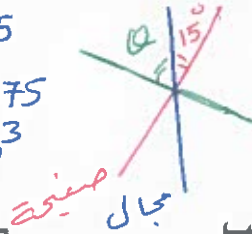
يتم غمس صفيحة ذات مساحة  $8m^2$  في حقل كهربائي منتظم مقداره  $2000N/C$  . إذا كان مستوى الصفيحة يصنع زاوية  $15$  مع المجال الكهربائي ، فإن التدفق الكهربائي عبر الصفيحة :

- (A)  $1.03 \cdot 10^3 N \cdot m^2/C$   
(B)  $2.83 \cdot 10^3 N \cdot m^2/C$   
(C)  $3.46 \cdot 10^3 N \cdot m^2/C$   
(D)  $4.14 \cdot 10^3 N \cdot m^2/C$


$$\Phi = EA \cos 75$$

$$= 2000 \times 8 \cos 75$$

$$= 4.14 \times 10^3$$



حساب إيجاد  $\theta$   
بين  $E$  والعمود على السطح  
 $\theta = 90 - 15$   
 $= 75$   
تدفق كهربائي عبر مكعب



المسألة

ما محصلة التدفق الكهربائي المار عبر المكعب؟

$$\Phi_{\text{net}} = \Phi_1 + \Phi_2 + \Phi_3 + \Phi_4 + \Phi_5 + \Phi_6$$

$$= 0 + 0 + 0 + 0 + EA - EA$$

$$= 0$$

عند وضع صندوق شكله مكعب أو كروي أو شبه مكعب .... خالي من الشحنات في مجال كهربائي فإن التدفق الكهربائي خلال الصندوق = صفر .

(( لأن عدد خطوط المجال التي تدخل الصندوق تساوي عدد خطوط المجال التي تخرج منه . ))

الكتاب هو المرجع الأساسي ومحتويات هذا الملف لا يغني عن الكتاب المدرسي

وإذا كان السطح مغلقاً فإننا نحصل على التدفق الكلي عبره من خلال تكامل المجال الكهربائي على السطح المغلق وبمتغيرين مكانيين مثل الاحداثيات الديكارتية ( $X$  و  $Y$ ) أو الاحداثيات الكروية ( $\theta$  و  $\phi$ ):

$$\Phi = \iint \vec{E} \cdot d\vec{A}$$

تعني **الطقة** الموجودة على التكامل أن التكامل يجري على سطح مغلق .  
وتشير **علامتا التكامل** الى إجراء التكامل على متغيرين .

## 2.8 قانون جاوس

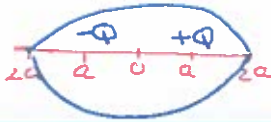
يتناسب التدفق الكهربائي الذي يمر عبر سطح مغلق مهما كان شكله ( سطح جاوس ) تناسباً طردياً مع مقدار الشحنة الكهربائية التي يحيط فيها ذلك السطح أي ان :

$$\Phi = \frac{q}{\epsilon_0}$$

حيث : ( $q$ ) مقدار الشحنة الكلية التي يحيط فيها السطح الجاوسي احاطة تامة (إغلاق تام)

\* ملاحظات هامة :

- 1- إذا كان السطح المغلق لا يحتوي شحنة فهذا يعني انعدام التدفق الكلي خلاله حتى لو كان موضوع في مجال خارجي منتظم او غير منتظم .
- 2- إذا كان هناك اكثر من شحنة داخل السطح المغلق فتجمع جمع جبري ثم نحسب التدفق الناتج عن مجموعها  $\Phi = \frac{\sum q}{\epsilon_0}$  او يتم حساب التدفق الناتج عن كل شحنة ثم نجمع جمعاً جبرياً .
- 3- التدفق خلال سطح مغلق يحيط بشحنة سالبة يكون مسار للتدفق خلال سطح مغلق يحيط بشحنة موجبة لها المقدار نفسه .
- 4- يمكن التعبير عن قانون جاوس بصيغة أخرى تتضمن مفهوم التدفق الكهربائي وكالتالي :



$$\iint \vec{E} \cdot d\vec{A} = \frac{q}{\epsilon_0}$$

2.3 وضعت شحنة نقطية،  $+Q$ ، على المحور  $x$  عند  $x = a$ ، ووضعت شحنة نقطية أخرى  $-Q$ ، على المحور  $x$  عند  $x = -a$ ، إذا كان هناك سطح جاوسي نصف قطره  $2a$  متمركز عند نقطة الأصل، لتسبكون التدفق عبر هذا سطح جاوس

(a) صفرًا.  
(b) أكبر من الصفر.  
(c) أقل من الصفر.  
(d) لا شيء، مما سبق.

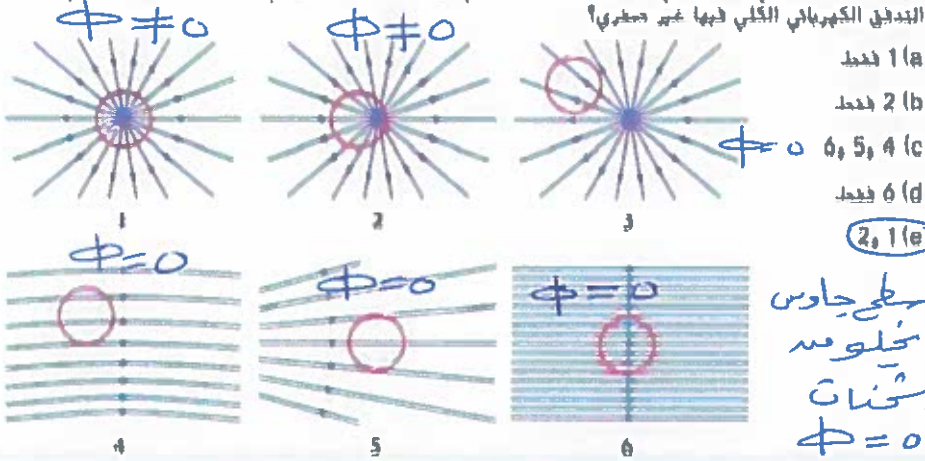
$$\Phi = \frac{q_{in}}{\epsilon_0} = \frac{Q + (-Q)}{\epsilon_0} = 2\epsilon_0 Q$$

2.1 لا استخدام قانون جاوس لحساب المجال الكهربائي الناتج عن توزيع معلوم للشحنة، أي من العبارات التالية يجب أن تكون صحيحة؟

(a) يجب أن يكون توزيع الشحنة في وسط غير موصل.  
(b) يجب أن يكون توزيع الشحنة في وسط موصل.  
(c) يجب أن يكون لتوزيع الشحنة تماثل كروي أو أسطواني.  
(d) يجب أن يكون لتوزيع الشحنة منتظماً.  
(e) يجب أن يكون لتوزيع الشحنة تماثل بدرجة عالية يسمح بوضع افتراضات حول تماثل مجاله الكهربائي.

مراجعة المفاهيم 2.9

الخطوط الموضحة في الشكل هي خطوط مجال كهربائي، والدائرة سطح جاوسي، ما الحالة (الحالات) التي يكون التدفق الكهربائي الكلي فيها غير صفري؟



1 فقط

2 فقط

3، 4، 5 فقط


6 فقط

1، 2 فقط

سطح جاوسي  
يخلو منه  
شحنات  
 $\Phi = 0$

مراجعة المفاهيم 2.8

وضعت أسطوانة مجسومة من مادة مازلة في مجال كهربائي كما هو مبين في الشكل ستكون محصلة التدفق الكهربائي المار عبر سطح الأسطوانة



(a) موجبة

(b) سالبة

(c) صفراً

سفر مغلق يدور حوله

2.48 وضعت أربع شحنات ( $+3q, -q, +2q, -7q$ ) في حيز ثلاثي الأبعاد واحيطت بسطح جاوسي، احسب التدفق الكهربائي خلال هذا السطح.

$$\Phi = \frac{\sum q_{in}}{\epsilon_0}$$

$$= \frac{(-7q + 2q - q + 3q)}{\epsilon_0} = \frac{-3q}{\epsilon_0}$$

المجال نحو الداخل

شحنه مجهوله لا يجوز تعويض قيمه بدلاً منها

2.49 الجدول المقابل يبين مقدار التدفق الذي يعبر كل وجه من أوجه صندوق مكعب مساحة كل وجه من أوجهه الستة ( $20.0\text{cm} \times 20.0\text{cm}$ )، احسب الشحنة الكلية (الصافية) داخل المكعب.

| الوجه | التدفق $\text{Nm}^2/\text{C}$ |
|-------|-------------------------------|
| 1     | -70.0                         |
| 2     | -300.0                        |
| 3     | -300.0                        |
| 4     | +800.0                        |
| 5     | -400.0                        |
| 6     | -500.0                        |

$$\sum \Phi = \frac{q_{in}}{\epsilon_0} \Rightarrow q_{in} = \epsilon_0 \sum \Phi$$

$$= \epsilon_0 (-70 + -300 + -300 + 800 + -400 + -500)$$

$$= \epsilon_0 (-1270) = -1.12 \times 10^{-8} \text{ C}$$

المجال يخرج من السطح

يتم حصر شحنتين في سطح كروي نصف قطره  $5\text{cm}$  والتدفق الكهربائي من خلال هذا السطح  $2 \times 10^6 \text{ Nm}^2/\text{C}$  فإن مقدار المجال الكهربائي في ذلك السطح =

- (A)  $2.1 \cdot 10^7 \text{ N/C}$   
(B)  $4.8 \cdot 10^7 \text{ N/C}$   
(C)  $6.4 \cdot 10^7 \text{ N/C}$   
(D)  $8.5 \cdot 10^7 \text{ N/C}$

$$\Phi = E \cdot A$$

$$E = \frac{\Phi}{A} = \frac{\Phi}{4\pi r^2}$$

$$= \frac{2 \times 10^6}{4\pi (0.05)^2} = 6.4 \times 10^7$$




مساحة الكره  
 $4\pi r^2$



ينص قانون جاوس على ان صافي التدفق خلال اي سطح جاوسي مغلق يساوي صافي الشحنة الكهربائية داخل السطح مقسوما على السماحية الفراغية

$$\Phi = \oint \vec{E} \cdot d\vec{A} = \frac{q_{in}}{\epsilon_0} = \frac{(q_1 + q_2 + q_3 + \dots + q_n)}{\epsilon_0}$$

معلومه إضافية  $\Phi$  يوجد شحله نقطية مقدارها  $+5 \text{ mC}$  في مركز كرة نصف قطرها  $12 \text{ cm}$ . ما هو التدفق الكهربائي لهذا المجال من خلال اذا سطح؟  $\times 10^{-3}$



$$\Phi = \frac{q_{in}}{\epsilon_0} = \frac{5 \times 10^{-3}}{\epsilon_0} = 5.6 \times 10^8 \text{ Nm}^2/\text{C}$$

مثال (أ) شحلتين مقدارهما  $(8 \text{ mC})$  و  $(-5 \text{ mC})$  داخل مكعب طول ضلعه  $0.45 \text{ m}$  ما هو مجموع التدفق الكهربائي من خلال المكعب؟  $\times 10^{-3}$   $\times 10^{-3}$

(ب) كرر (أ) اذا كان نفس الشحلتين موجودتين داخل غلاف كروي نصف قطر  $0.45 \text{ m}$

$$(أ) \Phi = \frac{q_{in}}{\epsilon_0} = \frac{(8 + -5) \times 10^{-3}}{\epsilon_0} = \frac{3 \times 10^{-3}}{8.85 \times 10^{12}} = 3.4 \times 10^8 \text{ Nm}^2/\text{C}$$

$$(ب) \Phi = \frac{q_{in}}{\epsilon_0} = \frac{(8 + -5) \times 10^{-3}}{\epsilon_0} = 3.4 \times 10^8 \text{ Nm}^2/\text{C}$$

نفس الاجابه ، لان التدفق لا يتأثر بشكل سطح جاوس

ويعتمد فقط على مقدار الشحنة  $\Phi \propto q_{in}$

توضع الشحلتين  $(+25.9 \mu\text{C})$  و  $(-8.2 \mu\text{C})$  على سطح كروي نصف قطرها  $5 \text{ cm}$ . فإن التدفق الكهربائي من ذلك السطح:  $\times 10^6$   $\times 10^6$

(A)  $2.0 \cdot 10^6 \text{ N.m}^2/\text{C}$

(B)  $3.0 \cdot 10^6 \text{ N.m}^2/\text{C}$

(C)  $4.0 \cdot 10^6 \text{ N.m}^2/\text{C}$

(D)  $5.0 \cdot 10^6 \text{ N.m}^2/\text{C}$

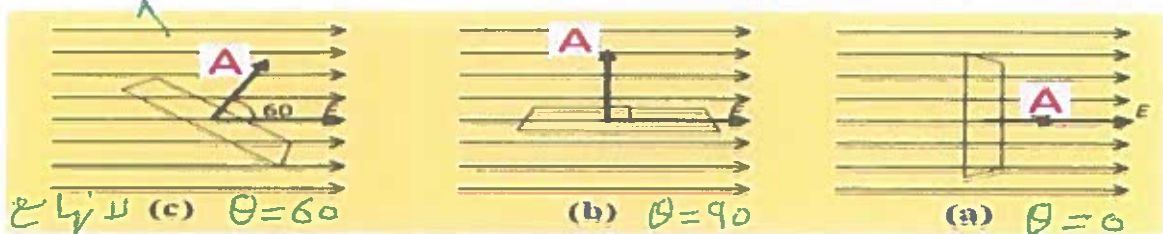
$$\Phi = \frac{q_{in}}{\epsilon_0} = \frac{(25.9 + -8.2) \times 10^{-6}}{\epsilon_0} = 2 \times 10^6 \text{ Nm}^2/\text{C}$$



مجال كهربائي E، يقطع سطحاً مستويًا مساحته A، كما في الشكل. أوجد تدفق

$$\Phi = EA \cos 60$$

المجال الكهربائي من السطح في الحالات a, b, c.

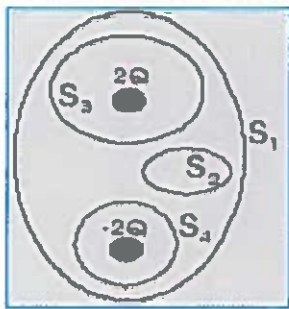


$$\Phi = \frac{1}{2} EA$$

$$\Phi = 0$$

$$\Phi = EA$$

لا يزال باتجاهه



في الشكل ادناه احسب التدفق الكلي (Φ) للسطوح S1, S2, S3, S4

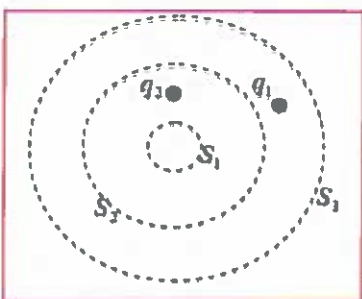
$$\Phi_1 = \frac{q_{in}}{\epsilon_0} = \frac{2Q + (-2Q)}{\epsilon_0} = 0$$

$$\Phi_2 = \frac{0}{\epsilon_0} = 0$$

$$\Phi_3 = \frac{2Q}{\epsilon_0}$$

$$\Phi_4 = \frac{-2Q}{\epsilon_0}$$

الشكل المجاور يظهر شحنتان نقطيتان  $q_1 = +4\mu C$  و  $q_2 = -6\mu C$  وثلاثة أسطح مغلقة  $S_1, S_2, S_3$



$$\Phi_1 = \frac{q_{in}}{\epsilon_0} = \frac{0}{\epsilon_0} = 0$$

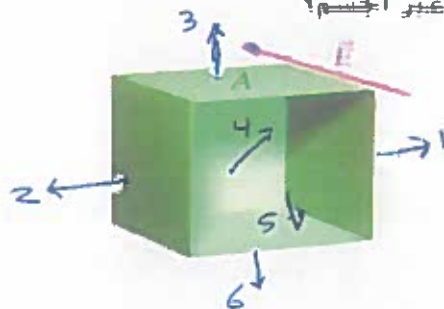
$$\Phi_2 = \frac{q_{in}}{\epsilon_0} = \frac{-6 \times 10^{-6}}{\epsilon_0} = -6.8 \times 10^5 \text{ Nm}^2/\text{C}$$

$$\Phi_3 = \frac{q_{in}}{\epsilon_0} = \frac{q_1 + q_2}{\epsilon_0} = \frac{(4 + (-6)) \times 10^{-6}}{\epsilon_0} = -2.3 \times 10^5$$

التدفق الخارج من السطح  
بجانب رقم (3)  
وليس داخله (3)

### سؤال الاختبار الذاتي 2.3

يوضع الشكل مكعباً مساحته وجهاً A ووجهاً ناقصاً للمكعب. يوجد هذا الجسم مكعب الشكل ذو الأوجه الخمسة في مجال كهربائي منتظم،  $\vec{E}$  عمودي على وجه واحد، ما محصلة التدفق الكهربائي المار عبر الجسم؟



$$\Phi_1 = \Phi_2 = 0$$

$$\Phi_3 = \Phi_6 = 0$$

$$\Phi_5 = 0 \text{ مفتح}$$

$$\Phi_4 = EA \cos 0$$

$$= +EA$$

$$\Phi_{\text{كلي}} = +EA$$

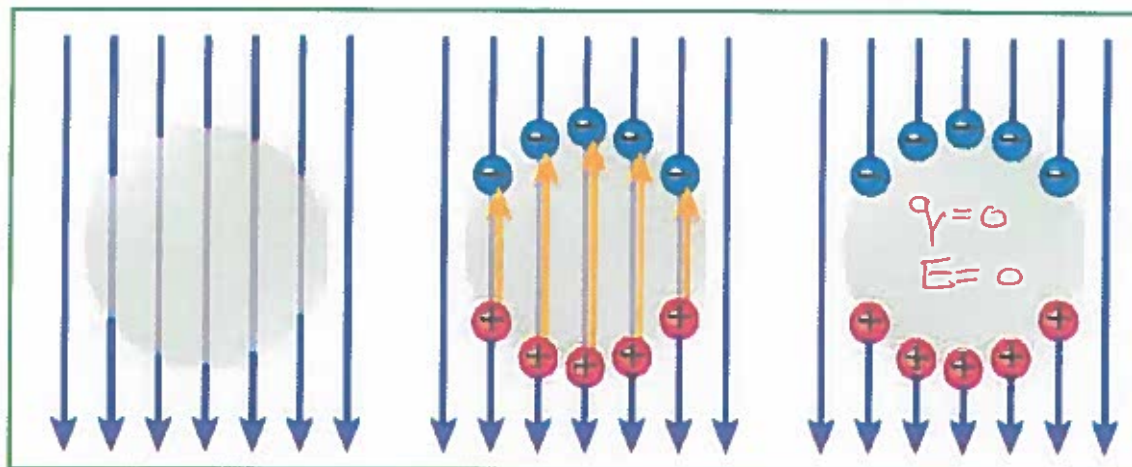
خارج السطح



## الحماية الكهروستاتيكية

تنص من قانون جاوس نتجتان مهمتان هما:

1. يكون المجال الكهروستاتيكي داخل أي موصل معزول صفراً دائماً.
2. تكون التجاويف الموجودة داخل الموصلات محمية من المجالات الكهربائية.



عند صناعة تجويف في جسم موصل (سيارة - قطار ....) تكون الشحنة الصافية وبالتالي المجال الكهربائي داخل هذا التجويف = صفراً دائماً .

2.13 كان أشخاص كثيرون جالسين في سيارة عندما تعرضت السيارة لضربة برق. لماذا نجوا من ضربة البرق هذه؟ السيارة مجوفة وموهلة لذلك محمية المجال (البرق والداخلي) = صفر [التدعيم، شحنة المجال داخلها]

## مراجعة المفاهيم 2.11

كرة مجوفة وموصلة غير مشحونة في البداية. فوضعت شحنة موجبة،  $+q_1$ ، داخل الكرة كما هو مبين في الشكل. ثم وضعت شحنة موجبة أخرى،  $+q_2$ ، بالقرب من الكرة لكن من الخارج. أي من العبارات التالية نصف محصلة القوة الكهربائية المؤثرة في كل شحنة؟

- توجد محصلة قوة كهربائية تؤثر في  $+q_2$  لكن لا تؤثر في  $+q_1$ .
- توجد محصلة قوة كهربائية تؤثر في  $+q_1$  لكن لا تؤثر في  $+q_2$ .
- تتأثر كلتا الشحنتين بمحصلة قوة كهربائية متساوية في المقدار والاتجاه.
- تتأثر كلتا الشحنتين بمحصلة قوة كهربائية متساوية في المقدار ومتعاكسة في الاتجاه.

(c) لا توجد محصلة قوة كهربائية تؤثر في أي من الشحنتين.

$q_1$  داخل تجويف موصل لذلك هي محمية من المجالات الأخرى





وضعت قطع الفلين في وعاء بلاستيكي مفتوح وعرضته لمجال كهربائي غير منتظم فانها تنتظير عند شحن مولد فان دي جرااف .  
لأن المجال الكهربائي يخترق الوعاء البلاستيكي بسهولة ويصل الى قطع الفلين فتكتسب مقداراً صغيراً من عزم ثنائي القطب .

وضعت قطع الفلين في وعاء موصل مفتوح وعرضته لمجال كهربائي غير منتظم فانها لا تنتظير عند شحن مولد فان دي جرااف .  
لأن الفلز الموصل وفر الحماية لقطع الفلين ومنع قطع الفلين من اكتساب عزم ثنائي القطب .

2.1 لا استخدام قانون جاوس لحساب المجال الكهربائي الناتج عن توزيع معلوم للشحنة. أي من العبارات التالية يجب أن تكون صحيحة؟  
(a) يجب أن يكون توزيع الشحنة في وسط غير موصل.  
(b) يجب أن يكون توزيع الشحنة في وسط موصل.  
(c) يجب أن يكون لتوزيع الشحنة تماثل كروي أو أسطواني.  
(d) يجب أن يكون توزيع الشحنة منتظماً.  
(e) يجب أن يكون لتوزيع الشحنة تماثل بدرجة عالية يسمح بوضع افتراضات حول تماثل مجاله الكهربائي.

2.7 التدفق الكهربائي عبر سطح جاوسي كروي نصف قطره  $R$  ومركزه عند شحنة  $Q$  هو  $1200 \text{ N}/(\text{Cm}^2)$ . كم يبلغ التدفق الكهربائي عبر سطح جاوسي مكعب طول ضلعه  $R$  ومركزه عند الشحنة  $Q$  نفسها؟

(d) لا يمكن إيجاده من المعلومات المعطاة

(a) أقل من  $1200 \text{ N}/(\text{Cm}^2)$

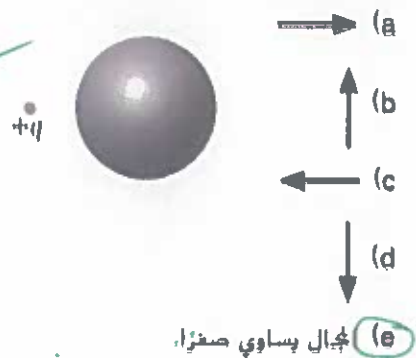
(b) أكبر من  $1200 \text{ N}/(\text{Cm}^2)$

(c) مساوٍ لـ  $1200 \text{ N}/(\text{Cm}^2)$

التدفق لا يعتمد على شكل سطح جاوس ولكن يعتمد على الشحنة .

## مراجعة المفاهيم 2.10

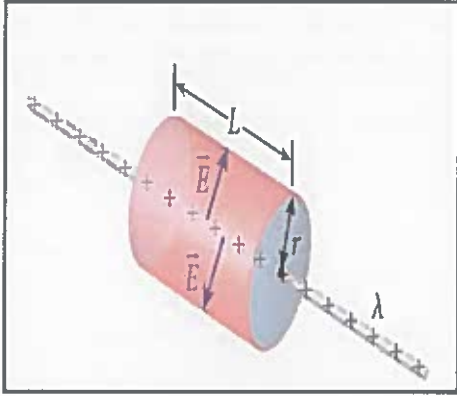
كرة موصلة مجوفة سُحبت في البداية بشحنة سالبة موزعة عليها بالتساوي، وفُزيت شحنة موجبة  $+Q$  إلى الكرة ثم وُضعت في حالة سكون، كما هو موضح في الشكل. ما اتجاه المجال الكهربائي داخل الكرة المجوفة؟



(e) مجال يساوي صفراً.  
الكرة موصلة ومجوفة  
المجال داخلها  
صفر (حماية)



2.9 حالات خاصة في تماثل توزيع الشحنات

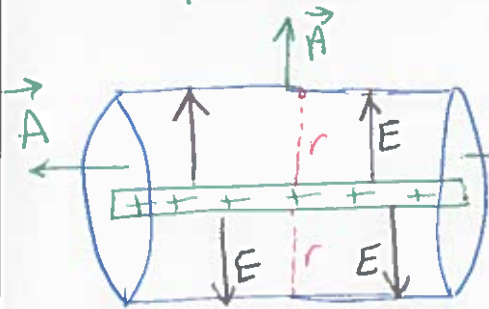


**التمائل الاسطواني** : لحساب شدة المجال الكهربائي الناتج عن سلك موصل مستقيم وطويل يحمل شحنة بكثافة طولية ( $\lambda$ ) فاننا نفترض وجود سطح جاوسي على شكل أسطوانة نصف قطرها ( $r$ ) وطولها ( $L$ ) تحيط بالسلك بحيث يكون السلك على طول محورها ثم نطبق قانون جاوس على هذا السطح مع الأخذ بالاعتبار ان **التمائل الاسطواني يشمل** :

1- **التمائل الدائري** بمعنى اذا تم تدوير السلك حول محوره ستدور معه بالكيفية نفسها جميع الشحنات وهذا يؤكد عدم اعتماد المجال الناتج عن هذا الجسم على زاوية دوران ذلك الجسم .

2- **التمائل الانتقالي** بمعنى اذا كان السلك لا نهائي الطول ( طويل جداً ) فإن شكله لا يتغير على امتداد طوله اي ان مجاله لا يعتمد على احدائي طول السلك وبالتالي لا يكون هناك مركبة لمجال السلك بموازاة طوله .

ولان خطوط المجال تكون دوماً موازية لطرفي الأسطوانة ( القاعدتين ) او خطوط المجال **تعاود متجه المساحة للقاعدتين** او تكون متعامدة على جدار الأسطوانة فاننا نحصل على الآتي :



$$\Phi = \oiint \vec{E} \cdot d\vec{A} = E \cdot A = \frac{q}{\epsilon_0}$$

$$E(2\pi rL) = \frac{q}{\epsilon_0} = \frac{\lambda L}{\epsilon_0}$$

$$\therefore E = \frac{\lambda}{2\pi\epsilon_0 r}$$

نبيه قانون السلك حيث

$$E = \frac{2k\lambda}{r}$$

$$E = \frac{2k\lambda}{r}$$

ممكن استبدال  $\lambda$

حيث ( $r$ ) المسافة العمودية عن السلك مع الانتباه الى ان اتجاه المجال يكون نحو الخارج اذا كانت الشحنة موجبة ويكون نحو الداخل اذا كانت الشحنة سالبة .

**التمائل السطحي :** لحساب شدة المجال الكهربائي الناتج عن لوح مسطح رقيق لانهائي وغير موصل يحمل شحنة بكثافة سطحية ( $\sigma$ ) فاننا نفترض وجود سطح جاوسي على شكل اسطوانة قائمة مغلقة مساحة مقطعها العرضي ( $A$ ) وطولها ( $2r$ ) تقطع اللوح المسطح عمودياً لاحظ الشكل المجاور وهنا تكون خطوط المجال متعامدة مع القاعدتين ( المقطع العرضي ) وموازية للجدارين ( الطول ) وبتطبيق قانون جاوس على هذا السطح الاسطواني المغلق نجد أن :

$$\Phi = \iint \vec{E} \cdot d\vec{A} = (E \cdot A + E \cdot A)$$

$$\Phi = \frac{q}{\epsilon_0} = \frac{\sigma A}{\epsilon_0}$$

$$E = \frac{\sigma}{2\epsilon_0}$$

لوح مشحون غير موصل

يجب الانتباه الى ان اتجاه المجال يكون نحو الخارج ( مبتعد عن اللوح ) اذا كانت الشحنة موجبة ويكون نحو الداخل ( باتجاه اللوح ) اذا كانت الشحنة سالبة .

\*ملاحظات هامة :

- 1- اذا كان اللوح المشحون مصنوع من مادة موصلة فان سطح جاوس يكون اسطوانة قائمة مغلقة يحيط بأحدى قاعدتيها اللوح المشحون نفسه .
- 2- ينعدم التدفق عبر طرف الاسطوانة الذي يحيط به اللوح المشحون وذلك لانعدام المجال داخل الموصل أما المجال في الخارج فيكون عمودياً على السطح او موازياً لجدار الاسطوانة .
- 3- يكتب قانون جاوس في هذه بالصيغة التالية :

$$\Phi = \iint \vec{E} \cdot d\vec{A} = E \cdot A = \frac{\sigma A}{\epsilon_0}$$

وهذا يعني ان مقدار المجال الكهربائي خارج السطح الموصل المشحون يُحسب بالعلاقة التالية :

$$E = \frac{\sigma}{\epsilon_0}$$

لوح مشحون موصل



التماثل الكروي: يختلف الوصف الفيزيائي باختلاف طبيعة الجسم المشحون هل هو مُفرغ ام مصمت.

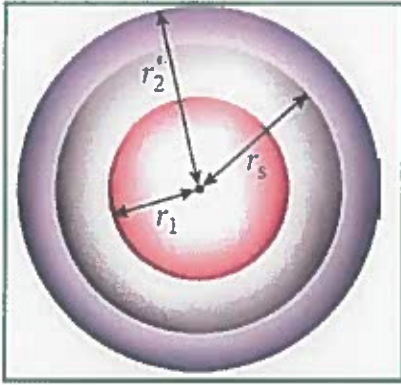
مجوف

1- اذا كان السطح الكروي رقيق ( مفرغ ) :

لحساب شدة المجال الكهربائي الناتج عن توزيع تماثل للشحنة على سطح جسم كروي رقيق (مفرغ) نصف قطره ( $r_s$ ) فاننا نفترض وجود سطح جاوسي على شكل كرة متحدة المركز مع الجسم الكروي نفسه لاحظ الشكل

وهنا يوجد احتمالين وكالتالي :

(i) اذا طلب حساب شدة المجال **خارج الجسم المشحون** أي على بُعد أكبر من نصف قطر الجسم فاننا نفترض سطح جاوسي نصف قطره ( $r_2$ ) حيث ( $r_2 > r_s$ ) وبتطبيق قانون جاوس على هذا السطح المغلق نجد أن :



$$\Phi = \oiint \vec{E} \cdot d\vec{A} = E \cdot A$$

$$\Phi = E(4\pi r_2^2) = \frac{q}{\epsilon_0}$$

المجال خارج جسم  
موجوهل وصجوف

$$E = k \frac{q}{r_2^2}$$

(ب) اذا طلب حساب شدة المجال **داخل الجسم المشحون** أي على بُعد أقل من نصف قطر الجسم فاننا نفترض سطح جاوسي نصف قطره ( $r_1$ ) حيث ( $r_1 < r_s$ ) أي ان السطح الجاوسي واقعاً داخل السطح الكروي المشحون وبتطبيق قانون جاوس سنجد ان :

$$\Phi = \oiint \vec{E} \cdot d\vec{A} = E(4\pi r_1^2) = 0.0$$

أي ان شدة المجال تنعدم داخل الكرة المشحونة

$$\Phi = 0$$

لان  $E=0$  داخل الجسم الموجهل المجوف

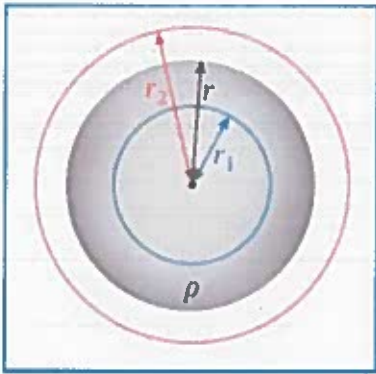


## 2- إذا كان السطح الكروي مُصمت :

لحساب شدة المجال الكهربائي الناتج عن توزيع منتظم (متساوي) للشحنة على حجم كرة (مصمتة) نصف قطرها ( $r$ ) وكثافة حجمية ( $\rho$ ) فإننا نفترض وجود سطح جاوسي على شكل كرة متحدة المركز مع الجسم الكروي نفسه لاحظ الشكل ، وهنا يوجد احتمالين وكالتالي :

$$\rho = \frac{q}{V} \text{ حجم}$$

(أ) إذا طلب حساب شدة المجال **داخل الجسم المشحون** أي على بُعد أقل من نصف قطر الجسم فإننا نفترض سطح جاوسي نصف قطره ( $r_1$ ) حيث ( $r_1 < r$ ) وبتطبيق قانون جاوس على هذا السطح المغلق نجد أن :



$$\Phi = \oiint \vec{E} \cdot d\vec{A} = E(4\pi r_1^2)$$

$$E(4\pi r_1^2) = \frac{q}{\epsilon_0} = \frac{\rho}{\epsilon_0} \left(\frac{4}{3}\pi r_1^3\right)$$

$$E = \frac{\rho r_1}{3\epsilon_0}$$

**حيث:** ( $4\pi r_1^2$ ) مساحة سطح جاوس الكروي و ( $\frac{4}{3}\pi r_1^3$ ) حجم الكرة التي يُحيط بها سطح جاوس وإذا كان مقدار الشحنة الكلية للكرة المشحونة  $q_t$  والتي تُحسب من خلال حاصل ضرب الكثافة الحجمية للشحنة في الحجم الكلي للكرة المشحونة أي أن :

$$q_t = \rho \times \frac{4}{3}\pi r^3$$

وبما أن الشحنة التي يحيط بها سطح جاوس تساوي نسبة حجم سطح جاوس الى حجم الكرة المشحونة مضروباً في الشحنة الكلية للكرة فإن :

$$q = \frac{r_1^3}{r^3} q_t$$

وحسب قانون جاوس نجد ان :

$$\Phi = \oiint \vec{E} \cdot d\vec{A} = E(4\pi r_1^2) = \frac{q_t}{\epsilon_0} \frac{r_1^3}{r^3}$$
$$E = \frac{q_t r_1}{4\pi \epsilon_0 r^3}$$

$$E = k \frac{q_t r_1}{r^3}$$

(ب) إذا طلب حساب شدة المجال **خارج الجسم المشحون** أي على بُعد أكبر من نصف قطر الجسم فإننا نفترض فإننا نفترض سطح جاوسي نصف قطره  $(r_2)$  حيث  $(r_2 > r)$  وبتطبيق قانون جاوس على هذا السطح

$$\Phi = \oiint \vec{E} \cdot d\vec{A} = E(4\pi r_2^2) = \frac{q_t}{\epsilon_0}$$

$$E = k \frac{q_t}{r_2^2}$$

مجال خارج جسم مشحون

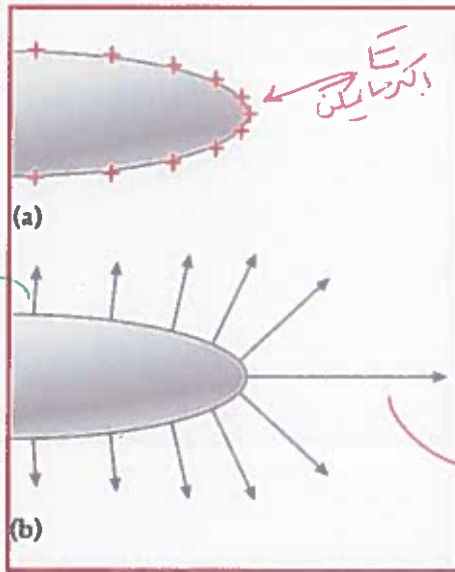
### الخواف الحادة ومانعات الصواعق

عند شحن موصل ذا طرف حاد تتكاثف الشحنات وتستقر عند الطرف الحاد لهذا الموصل وهنا يكون المجال الناشيء عن هذه الشحنات أشبه بالمجال الناشيء عن الشحنة النقطية حيث تتراحم خطوط المجال كلما اقتربنا من السطح الحاد للموصل وهذا يعني ان المجال يكون أقوى عند هذا الطرف.

هذه الفكرة هي ما دفع بنيامين فرانكلين الى ابتكار مانعات الصواعق التي تُستخدم للتقليل من الآثار السلبية الناتجة عن تراكم الشحنات أثناء العواصف حيث استخدم مانعات صواعق حادة وملتصدة مع الأرض بهدف تفريغ الشحنات الكهربائية التي تحملها الغيوم في الأرض بشكل مباشر.

ومن الجدير بالذكر ان معظم مانعات الصواعق التي تُستخدم لحماية المباني في هذه الأيام لا تستخدم الرؤس الحادة وذلك لمنع تولد مجالات كهربائية كبيرة تعمل على تأيين الهواء فتزيد من احتمالية حدوث البرق ولذا لجأ المختصون في هذا المجال الى تصنيع واستخدام مانعات الصواعق ذات النهايات الدائرية.

طرف حاد لموصل (بانحناء كبير).



(a) توزيع الشحنات

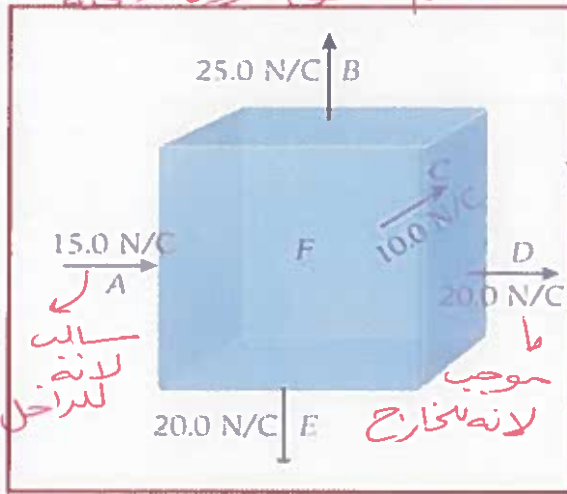
(b) مجال كهربائي عند سطح الموصل.

خطوط متزاوجة وعمودية على السطح

تخرج من الجسم الموجب وتدخل للسالب



حجم مطلق بدون شحنة  $\Phi = 0$



2.51 تتجه مجالات كهربائية مختلفة المقادير إما إلى الداخل أو إلى الخارج بزوايا قائمة على أسطح المكعب المبين في الشكل. ما شدة المجال واتجاهه على الوجه F؟

خطوط المجال نحو الداخل  $\leftarrow$  سالب E

خطوط المجال نحو الخارج  $\rightarrow$  موجب E

$$\sum E = 0$$

$$(-15) + (+25) + (+10) + (20) + (20) + E_F = 0$$

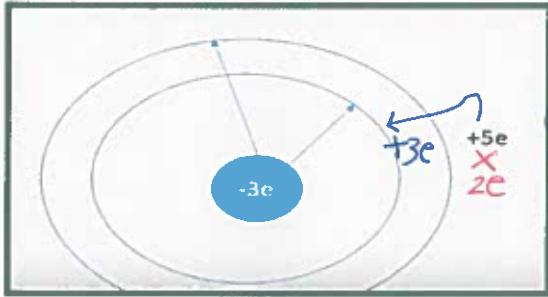
$$60 + E_F = 0$$

$$E_F = -60 \text{ N/C}$$

2-52 افترض أن موصلًا كرويًا مجوفًا شحنته الكلية  $+5e$ . ونصفا القطر الخارجي والداخلي هما  $a, b$  على التوالي.

(a) احسب الشحنة على السطحين الداخلي والخارجي للكرة إذا وضعت شحنة  $-3e$  في مركز الكرة.

(b) ما الشحنة الصافية الكلية للكرة؟

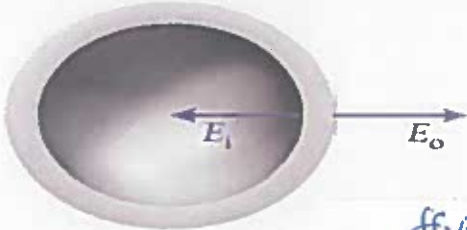


الشحنة الموجودة في مركز الكرة ستعمل على جذب شحنة موجبة وتبقي مقدارها من شحنته الخارجية، وتبقى على السطح الداخلي ليصبح  $+3e$

و الخارجي  $+2e$

والشحنة الصافية لكرة  $+5e$ .

2.54. هيكل كروي مجوف وموصل نصف قطره الداخلي  $8.00 \text{ cm}$  ونصف قطره الخارجي  $10.0 \text{ cm}$ . ومقدار المجال الكهربائي عند السطح الداخلي للهيكل،  $E_i$  هو  $80.0 \text{ N/C}$  ويتجه نحو مركز الكرة، ومقدار المجال الكهربائي عند السطح الخارجي،  $E_o$  هو  $80.0 \text{ N/C}$  ويتجه بعيدًا عن مركز الكرة (انظر الشكل). أوجد مقدار الشحنة على السطح الداخلي وعلى السطح الخارجي للهيكل الكروي.

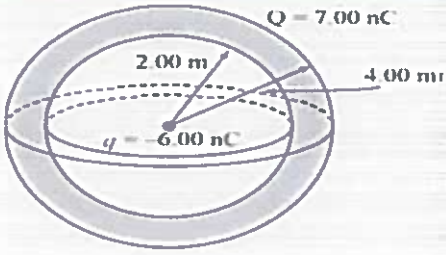


$$\oint E \cdot dA = \frac{q_{in}}{\epsilon_0}$$

$$E_i (4\pi r_i^2) = \frac{q_{in}}{\epsilon_0} \Rightarrow q_{in} = E_i (4\pi r_i^2) \epsilon_0$$

$$q_i = 80 (4\pi (0.08)^2) \times 8.85 \times 10^{-12} = 5.697 \times 10^{-11} \text{ C}$$

$$q_o = 80 (4\pi (0.10)^2) \times 8.85 \times 10^{-12} = 8.9 \times 10^{-11} \text{ C}$$



2.55 • وُضعت شحنة نقطية مقدارها  $-6.00 \text{ nC}$  في مركز هيكل كروي موصل. وللهيكل نصف قطر داخلي يساوي  $2.00 \text{ m}$  ونصف قطر خارجي يساوي  $4.00 \text{ m}$ . وشحنته  $+7.00 \text{ nC}$ .

(a) ما المجال الكهربائي عند  $r = 1.00 \text{ m}$  ؟

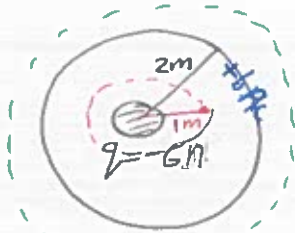
(b) ما المجال الكهربائي عند  $r = 3.00 \text{ m}$  ؟

(c) ما المجال الكهربائي عند  $r = 5.00 \text{ m}$  ؟

(d) ما توزيع الشحنة،  $\sigma$ ، على السطح الخارجي للهيكل؟

$$a) E_a = \frac{k q_{in}}{r^2} = \frac{9 \times 10^9 \times -6 \times 10^{-9}}{(1)^2}$$

للإشارة نحو الداخل فقط  
=  $-54 \text{ N/C}$



$$b) E_b = \frac{k q_{in}}{(r^2)} = \frac{9 \times 10^9 \times (6 + -6) \times 10^{-9}}{(3)^2}$$

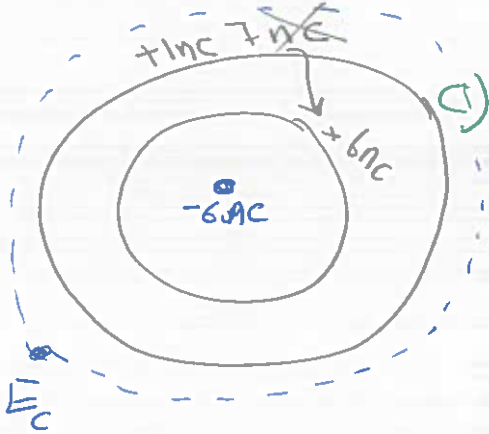
= Zero

لا يوجد شحنة في المكان بين الهيكل الداخلي والخارجي.

شحنة داخلية ستجذب شحنة مقدارها  $(+6 \text{ nC})$  على السطح الخارجي وتتموضع على السطح الداخلي

$$c) E_c = \frac{k q_{in}}{r^2} = \frac{9 \times 10^9 \times (7 + 6 - 6) \times 10^{-9}}{(5)^2}$$

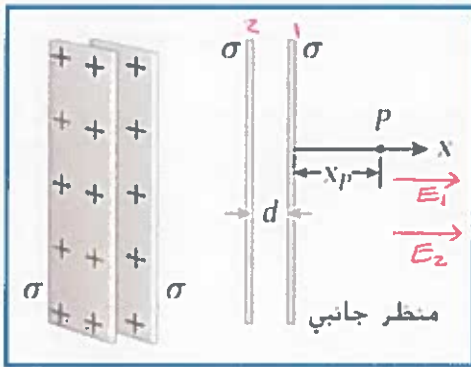
=  $0.36 \text{ N/C}$   
خارج



$$d) \sigma = \frac{q_{tot}}{4\pi r^2}$$

$$= \frac{(7 + 6 - 6) \times 10^{-9}}{4\pi (4)^2}$$

$$= 4.97 \times 10^{-12} \text{ C/m}^2$$



2.5 لوحان لانهائيان (غير موصلين) يوازي كل منهما الآخر، وتصل بينهما مسافة  $d = 10.0 \text{ cm}$ . كما هو موضح في الشكل. إذا كان كل لوح يحمل توزيع شحنة منتظماً مقداره  $\sigma = 4.5 \mu\text{C}/\text{m}^2$ ، فما المجال الكهربائي،  $\vec{E}$ ، عند النقطة  $P$  (إذا كان  $x_p = 20.0 \text{ cm}$ )

- a)  $0 \text{ N/C}$   
b)  $2.54 \hat{x} \text{ N/C}$   
c)  $(-5.08 \cdot 10^5) \hat{x} \text{ N/C}$   
d)  $(5.08 \cdot 10^5) \hat{x} \text{ N/C}$   
e)  $(-1.02 \cdot 10^6) \hat{x} \text{ N/C}$   
f)  $(1.02 \cdot 10^6) \hat{x} \text{ N/C}$

$$E_R = E_1 + E_2$$

$$= \frac{\sigma}{2\epsilon_0} + \frac{\sigma}{2\epsilon_0}$$

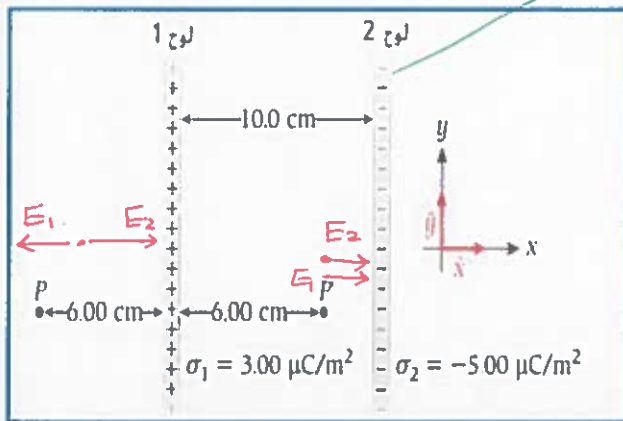
$$= \frac{2\sigma}{2\epsilon_0} = \frac{\sigma}{\epsilon_0}$$

$$= \frac{4.5 \times 10^{-6}}{8.85 \times 10^{-12}}$$

$$= 5.08 \times 10^5 \text{ N/C}$$

باتجاه محور  $x^+$

غير موصل



2.65. يبعد لوح شحنة لانهائيان عن بعضهما مسافة  $10.0 \text{ cm}$  كما هو موضح في الشكل. وتوزيع الشحنة السطحي للوح 1 هو  $\sigma_1 = 3.00 \mu\text{C}/\text{m}^2$ ، بينما توزيع الشحنة السطحي للوح 2 هو  $\sigma_2 = -5.00 \mu\text{C}/\text{m}^2$ . أوجد المجال الكهربائي الكلي (مقداراً واتجهاً) عند كل موقع من المواقع التالية:

(a) عند النقطة  $P$ ، على مسافة  $6.00 \text{ cm}$  يسار اللوح

(b) عند النقطة  $P$ ، على مسافة  $6.00 \text{ cm}$  بين اللوح

$$a) E_R = E_2 - E_1$$

$$= \frac{\sigma_2}{2\epsilon_0} - \frac{\sigma_1}{2\epsilon_0}$$

$$= \frac{\sigma_2 - \sigma_1}{2\epsilon_0}$$

$$= \frac{(-5 - 3) \times 10^{-6}}{2\epsilon_0}$$

$$= -4.5 \times 10^5 \text{ N/C}$$

نحو  $x^-$

$$b) E_R = E_1 + E_2$$

$$= \frac{\sigma_1}{2\epsilon_0} + \frac{\sigma_2}{2\epsilon_0}$$

$$= \frac{\sigma_1 + \sigma_2}{2\epsilon_0}$$

$$= \frac{(3 + -5) \times 10^{-6}}{2\epsilon_0}$$

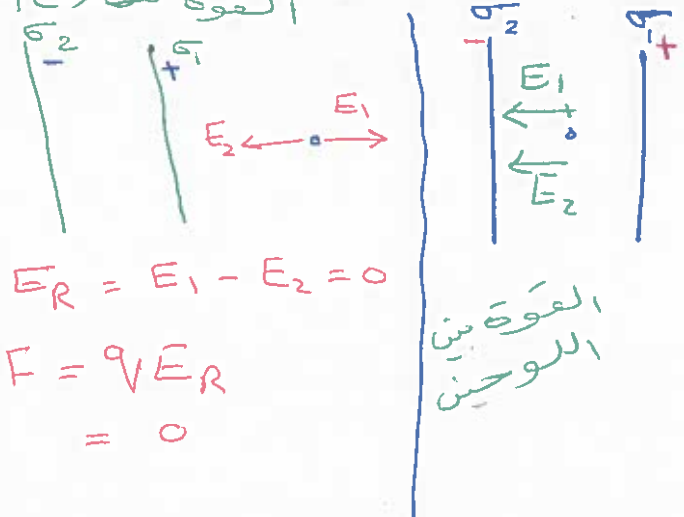
$$= -1.1 \times 10^5 \text{ N/C}$$

نحو  $x^+$



2.59 لوحان متوازيان لانهائيان وغير موصلين تفصل بينهما مسافة 10.0 cm ولهما توزيعان للشحنة  $+1.00 \mu\text{C}/\text{m}^2$  و  $-1.00 \mu\text{C}/\text{m}^2$ . ما القوة المؤثرة في إلكترون موجود في الفراغ بين اللوحين؟ ما القوة المؤثرة في إلكترون يقع خارج اللوحين بالقرب من سطح أحد اللوحين؟

القوة خارج اللوحين



$$E_R = E_1 - E_2 = 0$$

$$F = qE_R = 0$$

القوة بين اللوحين

$$E_R = E_1 + E_2$$

$$= \frac{\sigma}{2\epsilon_0} + \frac{\sigma}{2\epsilon_0} = \frac{2\sigma}{2\epsilon_0}$$

$$= \frac{\sigma}{\epsilon_0} = \frac{1 \times 10^{-6}}{\epsilon_0}$$

$$= 1.1 \times 10^5 \text{ N/C}$$

$$F = qE_R$$

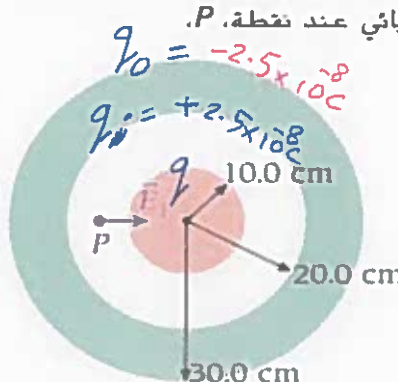
$$= 1.6 \times 10^{-19} \times 1.1 \times 10^5$$

$$= 1.8 \times 10^{-14} \text{ N}$$

تحو البار (C) (-)

2.58 كرة فلزية مجوفة نصف قطرها الداخلي 20.0 cm ونصف قطرها الخارجي 30.0 cm. وكما يوضح الشكل، وُضعت كرة فلزية مصمتة نصف قطرها 10.0 cm في مركز الكرة المجوفة. فوجد أن المجال الكهربائي عند نقطة P، على مسافة 15.0 cm من المركز، هو  $E_1 = 1.00 \cdot 10^4 \text{ N/C}$ . ويتجه شعاعيًا إلى الداخل. وعند النقطة Q، على مسافة 35.0 cm من المركز، وُجد أن المجال الكهربائي هو  $E_2 = 1.00 \cdot 10^4 \text{ N/C}$  ويتجه شعاعيًا إلى الخارج. أوجد الشحنة الكلية على (a) سطح الكرة الداخلية و (b) السطح الداخلي للكرة المجوفة و (c) السطح الخارجي للكرة المجوفة.

المجال عند P سالب لأنه يتجه إلى الداخل  
المجال عند Q موجب لأنه يتجه إلى الخارج



للمرارة الداخلية سيكتب حنه خالفة للسطح الخارجي لذلك يقبع حنه  $+2.5 \times 10^{-8} \text{ C}$

$$q_{in} = q_{خارجي} + q_{داخلي} + q_{الكرة}$$

$$1.36 \times 10^{-7} = q_0 + q_1 + q$$

$$1.36 \times 10^{-7} = (-2.5 \times 10^{-8}) + (2.5 \times 10^{-8}) + q$$

$$q = 1.36 \times 10^{-7} \text{ C}$$

$$E_1 (4\pi r_p^2) = \frac{q_{in}}{\epsilon_0}$$

$$q_{in} = \epsilon_0 E_1 (4\pi r_p^2)$$

$$= 8.85 \times 10^{-12} \times 1 \times 10^4 \times 4\pi (0.15)^2$$

$$= -2.5 \times 10^{-8} \text{ C}$$

$$E_2 (4\pi r_q^2) = \frac{q_{in}}{\epsilon_0}$$

$$q_{in} = \epsilon_0 E_2 (4\pi r_q^2)$$

$$= 8.85 \times 10^{-12} \times 1 \times 10^4 \times 4\pi (0.35)^2$$

$$= 1.36 \times 10^{-7} \text{ C}$$